

Modèle CCYC : ©DNE

Nom de famille (naissance) :

(Suivi s'il y a lieu, du nom d'usage)

Prénom(s) :

N° candidat :

N° d'inscription :



Liberté • Égalité • Fraternité
RÉPUBLIQUE FRANÇAISE

Né(e) le :

(Les numéros figurent sur la convocation.)

1.1

Évaluation

CLASSE : Première

VOIE : Générale Technologique Toutes voies (LV)

ENSEIGNEMENT : spécialité Numérique et Sciences Informatiques (NSI)

DURÉE DE L'ÉPREUVE : 02 h 00

Niveaux visés (LV) : LVA LVB

Axes de programme :

CALCULATRICE AUTORISÉE : Oui Non

DICTIONNAIRE AUTORISÉ : Oui Non

Ce sujet contient des parties à rendre par le candidat avec sa copie. De ce fait, il ne peut être dupliqué et doit être imprimé pour chaque candidat afin d'assurer ensuite sa bonne numérisation.

Ce sujet intègre des éléments en couleur. S'il est choisi par l'équipe pédagogique, il est nécessaire que chaque élève dispose d'une impression en couleur.

Ce sujet contient des pièces jointes de type audio ou vidéo qu'il faudra télécharger et jouer le jour de l'épreuve.

Nombre total de pages : 18

L'épreuve consiste en 42 questions, rangées en 7 thèmes.

Pour chaque question, le candidat gagne 3 points s'il choisit la bonne réponse, perd 1 point s'il choisit une réponse fautive. S'il ne répond pas ou choisit plusieurs réponses, il ne gagne ni ne perd aucun point.

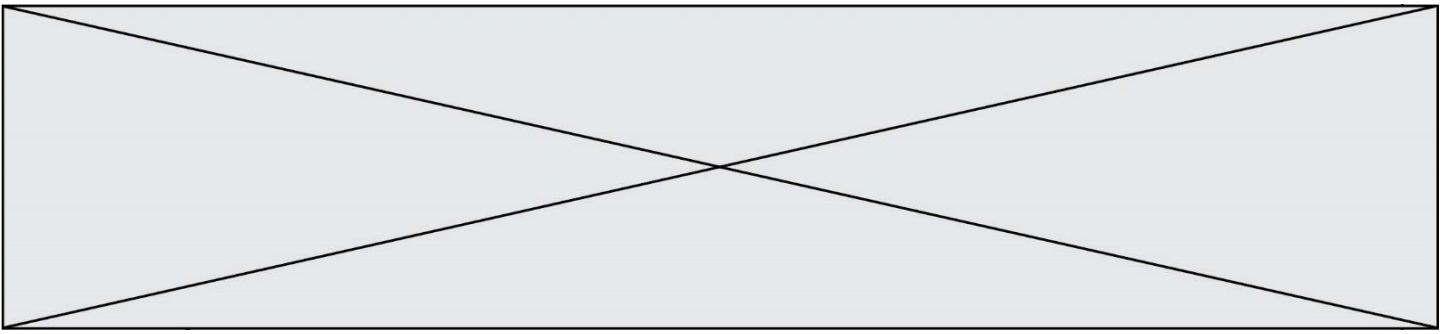
Le total sur chacun des 7 thèmes est ramené à 0 s'il est négatif.

La note finale s'obtient en divisant le total des points par 6,3 et en arrondissant à l'entier supérieur.

Le candidat indique ses réponses aux questions en pages 3 et 4.

Seules les pages 1 à 4 sont rendues par le candidat à la fin de l'épreuve, pour être numérisées.

Les questions figurent sur les pages suivantes.



Modèle CCYC : ©DNE

Nom de famille (naissance) :

(Suivi s'il y a lieu, du nom d'usage)

Prénom(s) :

N° candidat :

N° d'inscription :



Liberté • Égalité • Fraternité
RÉPUBLIQUE FRANÇAISE

(Les numéros figurent sur la convocation.)

Né(e) le :

1.1

Thème A : types de base

- Réponse à la question 1 A B C D
Réponse à la question 2 A B C D
Réponse à la question 3 A B C D
Réponse à la question 4 A B C D
Réponse à la question 5 A B C D
Réponse à la question 6 A B C D

Thème B : types construits

- Réponse à la question 1 A B C D
Réponse à la question 2 A B C D
Réponse à la question 3 A B C D
Réponse à la question 4 A B C D
Réponse à la question 5 A B C D
Réponse à la question 6 A B C D

Thème C : traitement de données en tables

- Réponse à la question 1 A B C D
Réponse à la question 2 A B C D
Réponse à la question 3 A B C D
Réponse à la question 4 A B C D
Réponse à la question 5 A B C D
Réponse à la question 6 A B C D

Thème D : interactions entre l'homme et la machine sur le Web

- Réponse à la question 1 A B C D
Réponse à la question 2 A B C D
Réponse à la question 3 A B C D
Réponse à la question 4 A B C D
Réponse à la question 5 A B C D
Réponse à la question 6 A B C D



Thème E : architectures matérielles et systèmes d'exploitation

Réponse à la question 1	A <input type="checkbox"/>	B <input type="checkbox"/>	C <input type="checkbox"/>	D <input type="checkbox"/>
Réponse à la question 2	A <input type="checkbox"/>	B <input type="checkbox"/>	C <input type="checkbox"/>	D <input type="checkbox"/>
Réponse à la question 3	A <input type="checkbox"/>	B <input type="checkbox"/>	C <input type="checkbox"/>	D <input type="checkbox"/>
Réponse à la question 4	A <input type="checkbox"/>	B <input type="checkbox"/>	C <input type="checkbox"/>	D <input type="checkbox"/>
Réponse à la question 5	A <input type="checkbox"/>	B <input type="checkbox"/>	C <input type="checkbox"/>	D <input type="checkbox"/>
Réponse à la question 6	A <input type="checkbox"/>	B <input type="checkbox"/>	C <input type="checkbox"/>	D <input type="checkbox"/>

Thème F : langages et programmation

Réponse à la question 1	A <input type="checkbox"/>	B <input type="checkbox"/>	C <input type="checkbox"/>	D <input type="checkbox"/>
Réponse à la question 2	A <input type="checkbox"/>	B <input type="checkbox"/>	C <input type="checkbox"/>	D <input type="checkbox"/>
Réponse à la question 3	A <input type="checkbox"/>	B <input type="checkbox"/>	C <input type="checkbox"/>	D <input type="checkbox"/>
Réponse à la question 4	A <input type="checkbox"/>	B <input type="checkbox"/>	C <input type="checkbox"/>	D <input type="checkbox"/>
Réponse à la question 5	A <input type="checkbox"/>	B <input type="checkbox"/>	C <input type="checkbox"/>	D <input type="checkbox"/>
Réponse à la question 6	A <input type="checkbox"/>	B <input type="checkbox"/>	C <input type="checkbox"/>	D <input type="checkbox"/>

Thème G : algorithmique

Réponse à la question 1	A <input type="checkbox"/>	B <input type="checkbox"/>	C <input type="checkbox"/>	D <input type="checkbox"/>
Réponse à la question 2	A <input type="checkbox"/>	B <input type="checkbox"/>	C <input type="checkbox"/>	D <input type="checkbox"/>
Réponse à la question 3	A <input type="checkbox"/>	B <input type="checkbox"/>	C <input type="checkbox"/>	D <input type="checkbox"/>
Réponse à la question 4	A <input type="checkbox"/>	B <input type="checkbox"/>	C <input type="checkbox"/>	D <input type="checkbox"/>
Réponse à la question 5	A <input type="checkbox"/>	B <input type="checkbox"/>	C <input type="checkbox"/>	D <input type="checkbox"/>
Réponse à la question 6	A <input type="checkbox"/>	B <input type="checkbox"/>	C <input type="checkbox"/>	D <input type="checkbox"/>

Modèle CCYC : ©DNE

Nom de famille (naissance) :


(Suivi s'il y a lieu, du nom d'usage)

Prénom(s) :

N° candidat : N° d'inscription :

(Les numéros figurent sur la convocation.)

Né(e) le : / /



1.1

Thème A : types de base

Question A 1

Combien de bits doit-on utiliser au minimum pour représenter en base 2 le nombre entier 72 ?

Réponses

- A 2
- B 6
- C 7
- D 8

Question A 2

Parmi les quatre propositions, quelle est celle qui correspond au résultat de l'addition en écriture hexadécimale $7B692 + 4C81E$?

Réponses

- A C8E0
- B C5E0
- C C7E0
- D C7E0

Question A 3

n est un entier dont la représentation en base 2 est : $100\ 1011$.
Laquelle de ces affirmations est vraie ?

Réponses

- A n est un entier pair plus grand que 128
- B n est un entier impair plus grand que 128
- C n est un entier pair plus petit que 128
- D n est un entier impair plus petit que 128

Question A 4

Parmi les quatre nombres suivants lequel est le seul à pouvoir être représenté de façon exacte en machine ?

Réponses

- A 3.1
- B 4.2
- C 5.24
- D 7.25

Question A 5



Combien de bits faut-il au minimum pour coder le nombre décimal 4085 ?

Réponses

- A 4
- B 12
- C 2042
- D 2043

Question A 6

Qu'est-ce qui permet de traduire un nom d'hôte en adresse IP ?

Réponses

- A un serveur DNS
- B un serveur DHCP
- C un pare-feu
- D un hub

Modèle CCYC : ©DNE

Nom de famille (naissance) :


(Suivi s'il y a lieu, du nom d'usage)

Prénom(s) :

N° candidat : N° d'inscription :

(Les numéros figurent sur la convocation.)

Né(e) le : / /



1.1

Thème B : types construits

Question B 1

Quelle instruction permet d'affecter la liste [0, 1, 4, 9, 16] à la variable tableau ?

Réponses

- A tableau = [i**2 for i in range(4)]
- B tableau = [i**2 for i in range(5)]
- C tableau = [i**2 for i in range(16)]
- D tableau = [i**2 for i in range(17)]

Question B 2

Le premier élément d'une liste Python L est noté :

Réponses

- A L(0)
- B L(1)
- C L[0]
- D L[1]

Question B 3

t1 est un tableau à n lignes et n colonnes. On souhaite remplir un tableau t2 de mêmes dimensions que t1 avec les contraintes suivantes : les lignes de t2 sont les colonnes de t1 et les colonnes de t2 sont les lignes de t1.

Par quelle instruction faut-il remplacer la ligne en pointillées du code suivant ?

```
for i in range(n):
    for j in range(n):
        .....
```

Réponses

- A t1[i][j] = t2[j][i]
- B t2[j][i] = t1[j][i]
- C t1[j][i] = t2[i][j]
- D t2[i][j] = t1[j][i]

Question B 4

On définit une liste : L = [1, 1, 2, 9, 3, 4, 5, 6, 7].

Quelle expression a-t-elle pour valeur la liste [4, 16, 36] ?

Réponses

- A [(x * x) % 2 == 0 for x in liste]
- B [x for x in liste if x % 2 == 0]
- C [x * x for x in liste]
- D [x * x for x in liste if x % 2 == 0]

Question B 5

Si la variable note est définie par note = ["do", "ré", "mi", "fa", "sol", "la", "si"] alors :

Réponses

- A l'index de "sol" est 5
- B l'index de note est 0



- C l'index de "si" est 7
- D l'index de "mi" est 2

Question B 6

On dispose d'une liste L :

L = [6, 2, 8, 24, 3, 6, 7, 8]

Quelle est la valeur de M après exécution du code suivant ?

p = 8

M = [x for x in L if x < p] + [x for x in L if x == p] + [x for x in L if x > p]

Réponses

- A [2, 3, 6, 6, 7, 8, 8, 24]
- B [6, 2, 3, 6, 7, 8, 8, 24]
- C [6, 2, 8, 24, 3, 6, 7, 8]
- D [[6, 2, 3, 6, 7], [8, 8], [24]]

Modèle CCYC : ©DNE

Nom de famille (naissance) :

(Suivi s'il y a lieu, du nom d'usage)

Prénom(s) :

N° candidat : N° d'inscription :

(Les numéros figurent sur la convocation.)

Né(e) le : / /



1.1

Thème C : traitement de données en tables

Question C 1

On considère l'extraction suivante d'une base de données des départements français. Cette extraction a ensuite été sauvegardée dans un fichier texte.

```
"1", "01", "Ain", "AIN", "ain", "A500"
"2", "02", "Aisne", "AISNE", "aisne", "A250"
"3", "03", "Allier", "ALLIER", "allier", "A460"
"4", "04", "Alpes-de-Haute-Provence", "ALPES-DE-HAUTE-PROVENCE", "alpes-de-haute-
provence", "A412316152"
"5", "05", "Hautes-Alpes", "HAUTES-ALPES", "hautes-alpes", "H32412"
```

Quel est le format de ce fichier ?

Réponses

- A YML
- B XML
- C CSV
- D JSON

Question C 2

Quelle est la valeur de x après exécution du programme ci-dessous ?

```
t = [[3,4,5,1],[33,6,1,2]]
x = t[0][0]
for i in range(len(t)):
    for j in range(len(t[i])):
        if x < t[i][j]:
            x = t[i][j]
```

Réponses

- A 3
- B 5
- C 6
- D 33

Question C 3

On définit la variable suivante : lettres = {"a": 1, "b": 2, "c": 3}.
Quelle est la valeur de l'expression list(lettres.keys()) ?

Réponses

- A [a,b,c]
- B [1,2,3]
- C ["a","b","c"]
- D {"a": 1, "b": 2, "c": 3}

Question C 4

On a défini :

```
mendeleiev = [['H', '.', '.', '.', '.', '.', '.', '.', '.', 'He'],
               ['Li', 'Be', 'B', 'C', 'N', 'O', 'F', 'Ne'],
               ['Na', 'Mg', 'Al', 'Si', 'P', 'S', 'Cl', 'Ar']]
```



Comment construire la liste des gaz rares, c'est-à-dire la liste des éléments de la dernière colonne ?

Réponses

- A gaz_rares=[periode[7] for periode in mendeleiev]
- B gaz_rares=[periode for periode in mendeleiev[7]]
- C gaz_rares=[periode for periode[7] in mendeleiev]
- D gaz_rares=[periode[8] for periode in mendeleiev]

Question C 5

On définit ainsi une liste t :

```
t = [ {'id':1, 'age':23, 'sejour':'PEKIN'},  
      {'id':2, 'age':27, 'sejour':'ISTANBUL'},  
      {'id':3, 'age':53, 'sejour':'LONDRES'},  
      {'id':4, 'age':41, 'sejour':'ISTANBUL'},  
      {'id':5, 'age':62, 'sejour':'RIO'},  
      {'id':6, 'age':28, 'sejour':'ALGER'}]
```

Quelle affirmation est correcte ?

Réponses

- A t est une liste de listes
- B t est une liste de dictionnaires
- C t est un dictionnaire de listes
- D t est une liste de tuples

Question C 6

Laquelle de ces affirmations est vraie ?

Réponses

- A on peut ouvrir un fichier CSV à l'aide d'un tableur
- B un fichier CSV permet de gérer l'apparence du code dans l'éditeur
- C un fichier CSV permet de gérer l'apparence d'une page HTML
- D un fichier CSV contient un programme à compiler

Modèle CCYC : ©DNE

Nom de famille (naissance) :

(Suivi s'il y a lieu, du nom d'usage)

Prénom(s) :

N° candidat : N° d'inscription :

(Les numéros figurent sur la convocation.)

Né(e) le : / /



1.1

Thème D : interactions entre l'homme et la machine sur le Web

Question D 1

Quel langage est interprété ou exécuté côté serveur ?

Réponses

- A JavaScript
- B PHP
- C HTML
- D CSS

Question D 2

On considère l'extrait suivant d'une page web d'un site de vente en ligne.

```
<form id="fmCreerCommande" name="fmCreerCommande" action="gestion.php" method="post">
  <input type="HIDDEN" name="reference" value="F1245">
  <label for="quantite" class="dropdown">Quantité :</label>
  <select name="quantite" autocomplete="off" id="quantite" class="dropdown">
    <option value="1" selected>1</option>
    <option value="2">2</option>
    <option value="3">3</option>
  </select>
  <div id="btnMulti" class="clValidBtn">
    <input type="button" value="Ajouter" class="btn" onclick="ajouterProduit()">
  </div>
</form>
```

Quelle est la méthode utilisée pour transmettre les informations saisies dans ce formulaire ?

Réponses

- A La méthode HIDDEN
- B La méthode GET
- C La méthode POST
- D La méthode SELECT

Question D 3

Quel est le nom d'un protocole qui permet à un client de faire une requête de page Web auprès d'un serveur ?

Réponses

- A WWW
- B FTP
- C HTTP
- D DNS

Question D 4



Parmi les balises HTML ci-dessous quelle est celle qui permet à l'utilisateur de saisir son nom dans un formulaire en respectant la norme HTML ?

Réponses

- A `<select />`
- B `<form />`
- C `<input type="text" />`
- D `<input type="name" />`

Question D 5

On souhaite qu'un menu apparaisse à chaque fois que l'utilisateur passe sa souris sur l'image de bannière du site. L'attribut de la balise `img` dans lequel on doit mettre un code Javascript à cet effet est :

Réponses

- A `onclick`
- B `src`
- C `alt`
- D `onmouseover`

Question D 6

Mehdi a écrit une page HTML contenant des éléments `input` de formulaire. Il place ces éléments de formulaire :

Réponses

- A entre la balise `<form>` et la balise `</form>`
- B entre la balise `<formulary>` et la balise `</formulary>`
- C entre la balise `<code>` et la balise `</code>`
- D entre la balise `<script>` et la balise `</script>`

Modèle CCYC : ©DNE

Nom de famille (naissance) :

(Suivi s'il y a lieu, du nom d'usage)

Prénom(s) :

N° candidat : N° d'inscription :

(Les numéros figurent sur la convocation.)

Né(e) le : / /



1.1

Thème E : architectures matérielles et systèmes d'exploitation

Question E 1

Quel est l'élément qui ne fait pas partie de l'architecture du modèle de Von Neumann ?

Réponses

- A l'unité d'entrée
- B l'unité arithmétique et logique
- C la mémoire centrale
- D l'unité d'affichage

Question E 2

On réalise une petite station météo.

Quel composant est un capteur ?

Réponses

- A l'afficheur LCD
- B l'écran de l'ordinateur
- C la LED
- D le thermomètre

Question E 3

La commande `chmod a-r monfichier`

Réponses

- A permet à tous (*all en anglais*) la lecture de monfichier
- B interdit à tous (*all en anglais*) la lecture de monfichier
- C permet à tous (*all en anglais*) l'écriture dans monfichier
- D interdit à tous (*all en anglais*) l'écriture dans monfichier

Question E 4

Sur un ordinateur, où est stocké de manière permanente le système d'exploitation ?

Réponses

- A dans la mémoire RAM
- B sur le bus de donnée
- C sur le disque dur ou le disque SSD
- D dans le Cloud

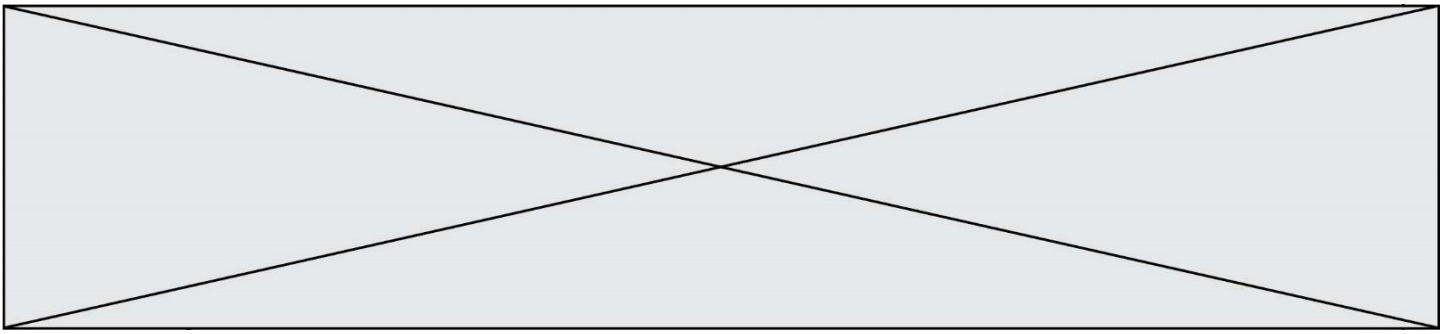
Question E 5

Parmi ces composants électroniques, lequel est d'échelle microscopique dans un ordinateur ?

Réponses

- A le bus
- B le radiateur
- C le transistor
- D le disque dur

Question E 6



Dans une mémoire vive RAM, que peut-on faire ?

Réponses

- A uniquement lire des données
- B uniquement écrire des données
- C lire et écrire des données
- D lire des données même en cas de coupure de courant

Modèle CCYC : ©DNE

Nom de famille (naissance) :

(Suivi s'il y a lieu, du nom d'usage)

Prénom(s) :

N° candidat :

N° d'inscription :



Liberté • Égalité • Fraternité
RÉPUBLIQUE FRANÇAISE

Né(e) le :

(Les numéros figurent sur la convocation.)

1.1

Thème F : langages et programmation

Question F 1

La fonction Python suivante ne calcule pas toujours correctement le résultat de x^y pour des arguments entiers. Parmi les tests suivants, lequel va permettre de détecter l'erreur ?

```
def puissance (x,y):  
    p = x  
    for i in range (y - 1):  
        p = p * x  
    return p
```

Réponses

- A puissance(2,0)
- B puissance(2,1)
- C puissance(2,2)
- D puissance(2,10)

Question F 2

La fonction suivante calcule la racine carrée du double d'un nombre flottant.

```
from math import sqrt  
  
def racine_du_double(x):  
    return sqrt(2*x)
```

Quelle est la précondition sur l'argument de cette fonction ?

Réponses

- A $x < 0$
- B $x \geq 0$
- C $2 * x > 0$
- D $\text{sqrt}(x) \geq 0$

Question F 3

On exécute le code suivant :

```
def essai():  
    a = 2  
    b = 3  
    c = 4  
    return a  
    return b  
    return c  
  
t = essai()
```

Quelle est la valeur de t après l'exécution de ce code ?

Réponses

- A 2
- B 3
- C 4
- D (2,3,4)

Question F 4



On considère la fonction suivante :

```
def comparaison(a,b):  
    if a < b:  
        return a  
    else:  
        return b
```

Quel est le type de la valeur renvoyée par l'appel `comparaison(6,5)` ?

Réponses

- A un booléen (vrai/faux)
- B un nombre entier
- C un nombre flottant
- D une chaîne de caractères

Question F 5

La documentation de la bibliothèque `random` de Python précise que `random.randint(a,b)` renvoie un entier aléatoire N tel que $a \leq N \leq b$.

Afin d'obtenir un entier choisi aléatoirement dans l'ensemble $\{-4; -2; 0; 2; 4\}$, après avoir importé la librairie `random` de Python, on peut utiliser l'instruction :

Réponses

- A `random.randint(0,8)/2`
- B `random.randint(0,8)/2 - 4`
- C `random.randint(0,4)*2 - 2`
- D `(random.randint(0,4) - 2) * 2`

Question F 6

On considère le code suivant :

```
def puiss(y,x):  
    res = 1  
    for i in range(x):  
        res = res*y  
    return res
```

Quelles sont les préconditions sur les arguments ?

Réponses

- A les arguments doivent être obligatoirement de type entier non nul
- B les arguments peuvent être de type entier ou flottant
- C le type des arguments n'a pas d'importance
- D il n'y a pas de préconditions dans ce cas

Modèle CCYC : ©DNE

Nom de famille (naissance) :

(Suivi s'il y a lieu, du nom d'usage)

Prénom(s) :

N° candidat :

N° d'inscription :



(Les numéros figurent sur la convocation.)

Né(e) le :

1.1

Thème G : algorithmique

Question G 1

La fonction suivante prend en arguments deux entiers positifs et renvoie leur produit.

```
def produit(a,b):  
    c = 0  
    i = 0  
    while i < b:  
        #  
        i = i + 1  
        c = c + a  
    return c
```

Quelle propriété reste vraie à chaque passage par la ligne marquée d'un # ?

Réponses

- A $c = a \times (i + 1)$
- B $c = a \times (i - 1)$
- C $c = a \times i$
- D $c = a \times b$

Question G 2

On considère la fonction suivante :

```
def comptage(phrase,lettre):  
    i = 0  
    for j in phrase:  
        if j == lettre:  
            i = i+1  
    return i
```

Que renvoie l'appel `comptage("Vive l'informatique", "e")` ?

Réponses

- A 0
- B 2
- C 19
- D 'e'

Question G 3

On exécute le script suivant :

```
for i in range(n):  
    for j in range(i):  
        print('NSI')
```

Combien de fois le mot NSI est-il affiché ?

Réponses

- A n^2
- B $(n + 1)^2$
- C $1 + 2 + \dots + (n - 1)$
- D $1 + 2 + \dots + (n - 1) + n$

Question G 4

On définit la fonction f comme suit :



```
def f(L):  
    a = L[0]  
    for x in L:  
        if x < a:  
            a = x  
    return a
```

Quelle est la valeur renvoyée par l'appel `f([7, 10.3, -4, 12, 7, 2, 0.7, -5, 14, 1.4])` ?

Réponses

- A -5
- B 1.4
- C 7
- D 14

Question G 5

Quel est l'ordre de grandeur du coût du tri par insertion (dans le pire des cas) ?

Réponses

- A l'ordre de grandeur du coût dépend de l'ordinateur utilisé
- B linéaire en la taille du tableau à trier
- C quadratique en la taille du tableau à trier
- D indépendant de la taille du tableau à trier

Question G 6

On exécute le script suivant :

```
def f(L,x):  
    r = 0  
    for e in L:  
        if e >= x:  
            r = r + 1  
    return r
```

Quelle est la valeur renvoyée par l'appel `f([1,2,2,8,3,5,6,0,10],5)` ?

Réponses

- A 2
- B 3
- C 4
- D 5