

Modèle CCYC : ©DNE

Nom de famille (naissance) :

(Suivi s'il y a lieu, du nom d'usage)

Prénom(s) :

N° candidat :

N° d'inscription :



(Les numéros figurent sur la convocation.)

Né(e) le :

1.1

Évaluation

CLASSE : Première

VOIE : Générale Technologique Toutes voies (LV)

ENSEIGNEMENT : spécialité Numérique et Sciences Informatiques (NSI)

DURÉE DE L'ÉPREUVE : 02 h 00

Niveaux visés (LV) : LVA LVB

Axes de programme :

CALCULATRICE AUTORISÉE : Oui Non

DICTIONNAIRE AUTORISÉ : Oui Non

Ce sujet contient des parties à rendre par le candidat avec sa copie. De ce fait, il ne peut être dupliqué et doit être imprimé pour chaque candidat afin d'assurer ensuite sa bonne numérisation.

Ce sujet intègre des éléments en couleur. S'il est choisi par l'équipe pédagogique, il est nécessaire que chaque élève dispose d'une impression en couleur.

Ce sujet contient des pièces jointes de type audio ou vidéo qu'il faudra télécharger et jouer le jour de l'épreuve.

Nombre total de pages : 18

L'épreuve consiste en 42 questions, rangées en 7 thèmes.

Pour chaque question, le candidat gagne 3 points s'il choisit la bonne réponse, perd 1 point s'il choisit une réponse fautive. S'il ne répond pas ou choisit plusieurs réponses, il ne gagne ni ne perd aucun point.

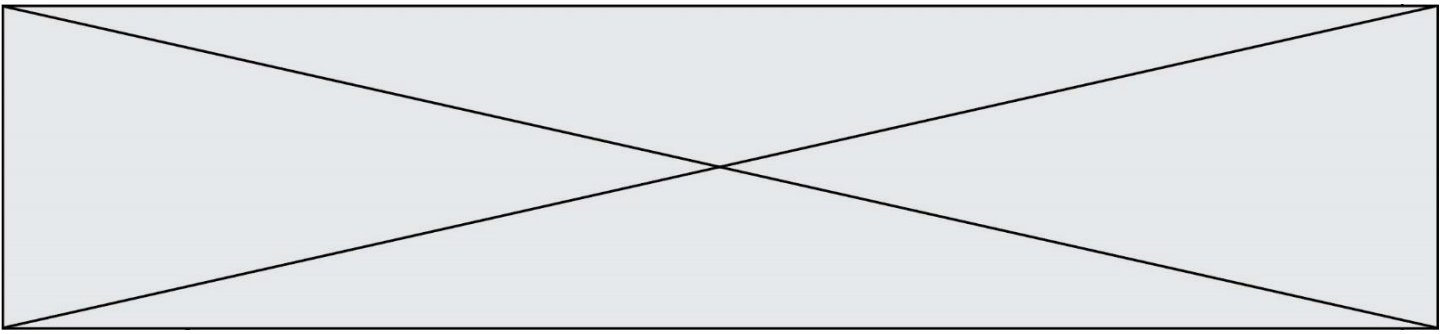
Le total sur chacun des 7 thèmes est ramené à 0 s'il est négatif.

La note finale s'obtient en divisant le total des points par 6,3 et en arrondissant à l'entier supérieur.

Le candidat indique ses réponses aux questions en pages 3 et 4.

Seules les pages 1 à 4 sont rendues par le candidat à la fin de l'épreuve, pour être numérisées.

Les questions figurent sur les pages suivantes.



Modèle CCYC : ©DNE

Nom de famille (naissance) :

(Suivi s'il y a lieu, du nom d'usage)

Prénom(s) :

N° candidat :

N° d'inscription :



Liberté • Égalité • Fraternité
RÉPUBLIQUE FRANÇAISE

(Les numéros figurent sur la convocation.)

Né(e) le :

1.1

Thème A : types de base

- Réponse à la question 1 A B C D
Réponse à la question 2 A B C D
Réponse à la question 3 A B C D
Réponse à la question 4 A B C D
Réponse à la question 5 A B C D
Réponse à la question 6 A B C D

Thème B : types construits

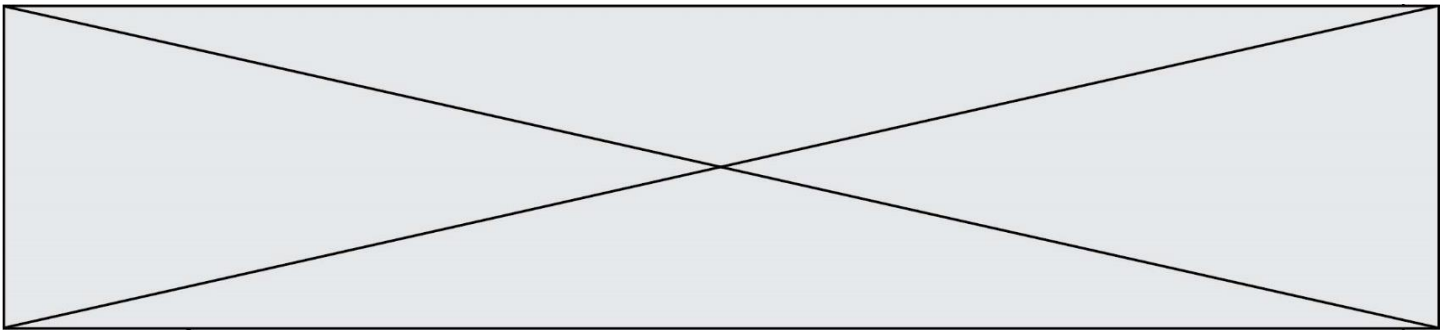
- Réponse à la question 1 A B C D
Réponse à la question 2 A B C D
Réponse à la question 3 A B C D
Réponse à la question 4 A B C D
Réponse à la question 5 A B C D
Réponse à la question 6 A B C D

Thème C : traitement de données en tables

- Réponse à la question 1 A B C D
Réponse à la question 2 A B C D
Réponse à la question 3 A B C D
Réponse à la question 4 A B C D
Réponse à la question 5 A B C D
Réponse à la question 6 A B C D

Thème D : interactions entre l'homme et la machine sur le Web

- Réponse à la question 1 A B C D
Réponse à la question 2 A B C D
Réponse à la question 3 A B C D
Réponse à la question 4 A B C D
Réponse à la question 5 A B C D
Réponse à la question 6 A B C D



Thème E : architectures matérielles et systèmes d'exploitation

| | | | | |
|-------------------------|----------------------------|----------------------------|----------------------------|----------------------------|
| Réponse à la question 1 | A <input type="checkbox"/> | B <input type="checkbox"/> | C <input type="checkbox"/> | D <input type="checkbox"/> |
| Réponse à la question 2 | A <input type="checkbox"/> | B <input type="checkbox"/> | C <input type="checkbox"/> | D <input type="checkbox"/> |
| Réponse à la question 3 | A <input type="checkbox"/> | B <input type="checkbox"/> | C <input type="checkbox"/> | D <input type="checkbox"/> |
| Réponse à la question 4 | A <input type="checkbox"/> | B <input type="checkbox"/> | C <input type="checkbox"/> | D <input type="checkbox"/> |
| Réponse à la question 5 | A <input type="checkbox"/> | B <input type="checkbox"/> | C <input type="checkbox"/> | D <input type="checkbox"/> |
| Réponse à la question 6 | A <input type="checkbox"/> | B <input type="checkbox"/> | C <input type="checkbox"/> | D <input type="checkbox"/> |

Thème F : langages et programmation

| | | | | |
|-------------------------|----------------------------|----------------------------|----------------------------|----------------------------|
| Réponse à la question 1 | A <input type="checkbox"/> | B <input type="checkbox"/> | C <input type="checkbox"/> | D <input type="checkbox"/> |
| Réponse à la question 2 | A <input type="checkbox"/> | B <input type="checkbox"/> | C <input type="checkbox"/> | D <input type="checkbox"/> |
| Réponse à la question 3 | A <input type="checkbox"/> | B <input type="checkbox"/> | C <input type="checkbox"/> | D <input type="checkbox"/> |
| Réponse à la question 4 | A <input type="checkbox"/> | B <input type="checkbox"/> | C <input type="checkbox"/> | D <input type="checkbox"/> |
| Réponse à la question 5 | A <input type="checkbox"/> | B <input type="checkbox"/> | C <input type="checkbox"/> | D <input type="checkbox"/> |
| Réponse à la question 6 | A <input type="checkbox"/> | B <input type="checkbox"/> | C <input type="checkbox"/> | D <input type="checkbox"/> |

Thème G : algorithmique

| | | | | |
|-------------------------|----------------------------|----------------------------|----------------------------|----------------------------|
| Réponse à la question 1 | A <input type="checkbox"/> | B <input type="checkbox"/> | C <input type="checkbox"/> | D <input type="checkbox"/> |
| Réponse à la question 2 | A <input type="checkbox"/> | B <input type="checkbox"/> | C <input type="checkbox"/> | D <input type="checkbox"/> |
| Réponse à la question 3 | A <input type="checkbox"/> | B <input type="checkbox"/> | C <input type="checkbox"/> | D <input type="checkbox"/> |
| Réponse à la question 4 | A <input type="checkbox"/> | B <input type="checkbox"/> | C <input type="checkbox"/> | D <input type="checkbox"/> |
| Réponse à la question 5 | A <input type="checkbox"/> | B <input type="checkbox"/> | C <input type="checkbox"/> | D <input type="checkbox"/> |
| Réponse à la question 6 | A <input type="checkbox"/> | B <input type="checkbox"/> | C <input type="checkbox"/> | D <input type="checkbox"/> |

Modèle CCYC : ©DNE

Nom de famille (naissance) :

(Suivi s'il y a lieu, du nom d'usage)

Prénom(s) :

N° candidat : N° d'inscription :

(Les numéros figurent sur la convocation.)

Né(e) le : / /



1.1

Thème A : types de base

Question A 1

Soient P et Q deux formules logiques telles que P est vraie et Q est fausse. Quelle est la valeur de l'expression (P ET Q) OU ($NON(P)$ OU Q) ?

Réponses

- A vraie
- B fausse
- C ni vraie, ni fausse
- D vraie et fausse en même temps

Question A 2

Quel est un avantage du codage UTF8 par rapport au codage ASCII ?

Réponses

- A il permet de coder un caractère sur un octet au lieu de deux
- B il permet de coder les majuscules
- C il permet de coder tous les caractères
- D il permet de coder différentes polices de caractères

Question A 3

À quelle affectation sont équivalentes les instructions suivantes, où a , b sont des variables entières et c une variable booléenne ?

```
if a==b:
    c = True
elif a > b+10:
    c = True
else:
    c = False
```

Réponses

- A $c = (a==b)$ or $(a > b+10)$
- B $c = (a==b)$ and $(a > b+10)$
- C $c = \text{not}(a==b)$
- D $c = \text{not}(a > b+10)$

Question A 4

Quelle est la représentation hexadécimale de l'entier dont la représentation binaire s'écrit :

0100 1001 1101 0011 ?

Réponses

- A 18899
- B 3D94
- C 49D3
- D 93A3

Question A 5

Le résultat de la multiplication en binaire $1011 * 101$ est égal au nombre binaire :



Réponses

- A 102111
- B 101110
- C 110111
- D 110011

Question A 6

Quel est le plus grand entier positif (non signé) représentable en binaire sur 2 octets (c'est-à-dire 16 bits) ?

Réponses

- A $2^{15} - 1$
- B 2^{15}
- C $2^{16} - 1$
- D 2^{16}

Modèle CCYC : ©DNE

Nom de famille (naissance) :

(Suivi s'il y a lieu, du nom d'usage)

Prénom(s) :

N° candidat :

N° d'inscription :



(Les numéros figurent sur la convocation.)

Né(e) le :

1.1

Thème B : types construits

Question B 1

On définit $L = [2, 3, 5, 7, -4]$.

En demandant la valeur de $L[5]$, qu'obtient-on ?

Réponses

- A -4
- B 2
- C 3
- D une erreur

Question B 2

On définit :

```
resultat = [ i*2 for i in range(10) ]
```

Quelle est la valeur de resultat ?

Réponses

- A [0, 1, 2, 3, 4, 5, 6, 7, 8, 9]
- B [0, 2, 4, 6, 8, 10, 12, 14, 16, 18]
- C [0, 2, 4, 6, 8, 10, 12, 14, 16, 18, 20]
- D [2, 4, 6, 8, 10, 12, 14, 16, 18]

Question B 3

Considérons le tableau suivant :

```
tableau = [[1,2],[3,4],[5,6]]
```

Quelle est la valeur de l'expression `tableau[2][1]` ?

Réponses

- A 3
- B 6
- C [3,4],[1,2]
- D [5,6],[2,4]

Question B 4

Un programme Python présente la ligne suivante :

```
x = ["x1", "x2", "x3"]
```

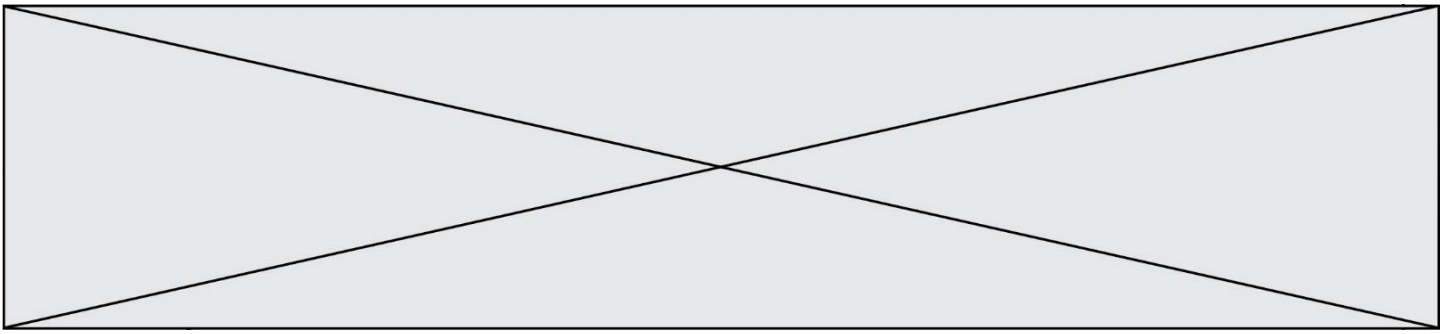
Elle définit :

Réponses

- A une liste de trois éléments
- B un tuple de trois éléments
- C une fonction acceptant trois paramètres
- D un dictionnaire associant la valeur x_2 à la clé x_1 d'indice x_3

Question B 5

Laquelle des quatre expressions suivantes a-t-elle pour valeur la liste $[1, 2, 5, 10]$?



Réponses

- A `[i for i in range(4) if i<2]`
- B `[i for i in range(4)]`
- C `[i*i + 1 for i in range(4)]`
- D `[i*i - 2*i + 2 for i in range(4)]`

Question B 6

Considérons le tableau suivant :

```
tableau = [ [i+2*j for j in range(4)] for i in range(4)]
```

Quelle est la valeur de l'expression `tableau[1]` ?

Réponses

- A `[0,1,2,3]`
- B `[1,2,3,4]`
- C `[0,2,4,6]`
- D `[1,3,5,7]`

Modèle CCYC : ©DNE

Nom de famille (naissance) :

(Suivi s'il y a lieu, du nom d'usage)

Prénom(s) :

N° candidat : N° d'inscription :

(Les numéros figurent sur la convocation.)

Né(e) le : / /



1.1

Thème C : traitement de données en tables

Question C 1

Une table d'un fichier client contient le nom, le prénom et l'identifiant des clients sous la forme :

```
clients = [ ("Dupont", "Paul", 1),
            ("Durand", "Jacques", 2),
            ("Dutronc", "Jean", 3),
            ... ]
```

En supposant que plusieurs clients se prénomment Jean, que vaut la liste x après l'exécution du code suivant ?

```
x = []
for i in range(len(clients)):
    if clients[i][1] == "Jean":
        x = clients[i]
```

Réponses

- A Une liste de tuples des noms, prénoms et numéros de tous les clients prénommés Jean
- B Une liste des numéros de tous les clients prénommés Jean
- C Un tuple avec le nom, prénom et numéro du premier client prénommé Jean
- D Un tuple avec le nom, prénom et numéro du dernier client prénommé Jean

Question C 2

Soit le tableau défini de la manière suivante : `tableau = [[1, 3, 4], [2, 7, 8], [9, 10, 6], [12, 11, 5]]`

On souhaite accéder à la valeur 12, on écrit pour cela :

Réponses

- A `tableau[4][1]`
- B `tableau[1][4]`
- C `tableau[3][0]`
- D `tableau[0][3]`

Question C 3

Soit la table de données suivante :

| nom | prenom | date_naissance |
|---------|-----------|----------------|
| Dupont | Pierre | 17/05/1987 |
| Dupond | Catherine | 18/07/1981 |
| Haddock | Archibald | 23/04/1998 |

Quels sont les descripteurs de ce tableau ?

Réponses

- A nom, prenom et date_naissance
- B Dupont, Pierre et 17/05/1987
- C Dupont, Dupond et Haddock
- D il n'y en a pas

Question C 4

On a défini :

```
mendeleiev = [['H', '.', '.', '.', '.', '.', '.', '.', '.', 'He'],
              ['Li', 'Be', 'B', 'C', 'N', 'O', 'F', 'Ne'],
              ['Na', 'Mg', 'Al', 'Si', 'P', 'S', 'Cl', 'Ar']]
```



Comment construire la liste des gaz rares, c'est-à-dire la liste des éléments de la dernière colonne ?

Réponses

- A `gaz_rares=[periode[7] for periode in mendeleiev]`
- B `gaz_rares=[periode for periode in mendeleiev[7]]`
- C `gaz_rares=[periode for periode[7] in mendeleiev]`
- D `gaz_rares=[periode[8] for periode in mendeleiev]`

Question C 5

Laquelle de ces listes de chaînes de caractères est triée en ordre croissant ?

Réponses

- A `['Chat', 'Chien', 'Cheval', 'Cochon']`
- B `['Chat', 'Cheval', 'Chien', 'Cochon']`
- C `['Chien', 'Cheval', 'Cochon', 'Chat']`
- D `['Cochon', 'Chien', 'Cheval', 'Chat']`

Question C 6

On considère l'extraction suivante d'une base de données des départements français. Cette extraction a ensuite été sauvegardée dans un fichier texte.

```
"1","01","Ain","AIN","ain","A500"  
"2","02","Aisne","AISNE","aisne","A250"  
"3","03","Allier","ALLIER","allier","A460"  
"4","04","Alpes-de-Haute-Provence","ALPES-DE-HAUTE-PROVENCE","alpes-de-haute-  
provence","A412316152"  
"5","05","Hautes-Alpes","HAUTES-ALPES","hautes-alpes","H32412"
```

On considère le code suivant :

```
import csv  
with open('departements.csv', newline='') as monFichier:  
    lesLignes = csv.reader(monFichier)  
    for uneLigne in lesLignes:  
        print(uneLigne[3])
```

Que va produire l'exécution de ce code ?

Réponses

- A L'affichage de la troisième colonne à savoir le nom du département avec une majuscule initiale
- B L'affichage de tout le contenu du fichier
- C L'affichage du nombre total de départements figurant dans le fichier
- D L'affichage de la quatrième colonne, à savoir le nom du département tout en majuscules

Modèle CCYC : ©DNE

Nom de famille (naissance) :


(Suivi s'il y a lieu, du nom d'usage)

Prénom(s) :

N° candidat : N° d'inscription :

(Les numéros figurent sur la convocation.)

Né(e) le : / /



1.1

Thème D : interactions entre l'homme et la machine sur le Web

Question D 1

Comment doit-on procéder pour insérer des instructions en javascript dans un fichier html ?

Réponses

- A Il suffit de mettre les instructions entre les balises <javascript> et </javascript>
- B Il faut utiliser une balise <script>
- C Il faut les insérer dans le fichier CSS
- D Il est inutile de mettre des balises spéciales

Question D 2

Quel est le nom de l'événement généré lorsque l'utilisateur clique sur un bouton de type button dans une page HTML ?

Réponses

- A action
- B mouse
- C submit
- D click

Question D 3

Pour créer un lien vers la page d'accueil de Wikipédia, que devra-t-on écrire dans une page Web ?

Réponses

- A Wikipédia
- B
- C Wikipédia
- D <link src="http://fr.wikipedia.org">Wikipédia</link>

Question D 4

Dans une page HTML, on peut trouver le code suivant :

```
<article>
  <h1>Les auteurs de ce site</h1>
  <button onclick="auteurs()">Appuyer ici</button>
</article>

<script src="java_script/ScriptJava.js"></script>

<script>
  fonction auteurs() { alert("Auteurs anonymes"); }
</script>
```

Quel sera le résultat d'un clic sur le bouton "Appuyer ici" ?

Réponses

- A Rien
- B La page du navigateur se fermera
- C La page affichera à la place du bouton "Appuyer ici" le message "Auteurs anonymes"
- D Cela provoquera l'ouverture d'une fenêtre comportant le message "Auteurs anonymes"

Question D 5



Le site internet d'un quotidien d'information permet aux visiteurs de laisser des commentaires textuels. Ces commentaires doivent être visibles par les autres visiteurs. Laquelle des affirmations suivantes est correcte ?

Réponses

- A Il suffit que la page HTML contienne des champs de la forme <textarea >
- B Il suffit que la page HTML contienne des champs de la forme <textarea > et d'utiliser JavaScript pour enregistrer les commentaires
- C Il faut un programme en PHP ou un script Python sur le serveur pour traiter les données
- D Non, ce n'est pas possible avec la technologie actuelle

Question D 6

Compléter le script ci-dessous :

```
<!DOCTYPE html>
<html>
  <head>
    <.....>Ma page HTML</.....>
  </head>
</html>
```

Réponses

- A href
- B title
- C html
- D aucune des propositions précédentes

Modèle CCYC : ©DNE

Nom de famille (naissance) :

(Suivi s'il y a lieu, du nom d'usage)

Prénom(s) :

N° candidat : N° d'inscription :

(Les numéros figurent sur la convocation.)

Né(e) le : / /

 Liberté • Égalité • Fraternité
RÉPUBLIQUE FRANÇAISE

1.1

Thème E : architectures matérielles et systèmes d'exploitation

Question E 1

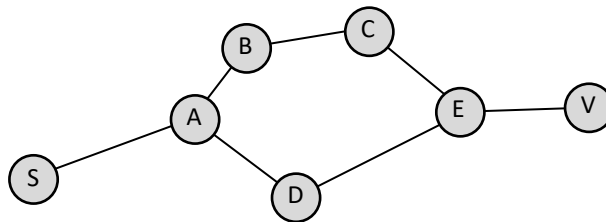
À partir du répertoire ~/Perso/Doc quelle commande permet de rejoindre le répertoire ~/Public ?

Réponses

- A cd ./Public
- B cd ../Public
- C cd ../../Public
- D cd ../.././Public

Question E 2

Vivien télécharge un logiciel à partir d'un site commercial. Le transfert par Internet du logiciel a débuté entre le serveur (machine S) et son domicile (machine V). On a représenté des routeurs A, B, C, D et E et les liens existants. Les paquets IP suivent le chemin passant par les routeurs A, B, C et E.



Durant un orage, la foudre frappe et détruit le serveur C par lequel transitent les paquets correspondant au fichier que télécharge Vivien. Que se passe-t-il ?

Réponses

- A la liaison étant coupée, le serveur ne sera plus accessible
- B le téléchargement n'est pas interrompu car les paquets peuvent transiter par le routeur D
- C le téléchargement est interrompu, Vivien doit redémarrer une nouvelle connexion à partir de zéro
- D le téléchargement se poursuit mais des données seront perdues

Question E 3

Dans l'architecture générale de Von Neumann, la partie qui a pour rôle d'effectuer les opérations de base est :

Réponses

- A l'unité de contrôle
- B la mémoire
- C l'unité arithmétique et logique
- D les dispositifs d'entrée-sortie

Question E 4

L'adresse IP du site `www.education.gouv.fr` est `185.75.143.24`.

Quel dispositif permet d'associer l'adresse IP et l'URL `www.education.gouv.fr` ?



Réponses

- A un routeur
- B un serveur DNS
- C un serveur de temps
- D un serveur Web

Question E 5

Dans la console Linux, quelle commande faut-il exécuter pour obtenir le contenu du répertoire courant ?

Réponses

- A man pwd
- B cd pwd
- C ls -l
- D man ls -l

Question E 6

À partir du dossier ~/Doc/QCM, quelle commande permet de rejoindre le dossier ~/Hack/Reponses ?

Réponses

- A cd Hack/Reponses
- B cd /Hack/Reponses
- C cd ~/Hack/Reponses
- D cd ../../Hack/Reponses



```
for i in range(len(L)):
    L[i] = L[i] * L[i] * L[i]
return L
```

```
L = [2, 5]
b = cube(L)
```

Que vaut le couple (L, b) à la fin de l'exécution ?

Réponses

- A ([2,5], [8,125])
- B ([8,125], [8,125])
- C ([8,125], [2,5])
- D ([2,5], [2,5])

Question F 5

Dans le programme JavaScript suivant, quelle est la notation qui délimite le bloc d'instructions exécuté à chaque passage dans la boucle while ?

```
i = 0
while (i < 10) {
    alert(i)
    i = i + 1
}
alert("Fin")
```

Réponses

- A le fait que les instructions soient encadrées entre { et }
- B le fait que les instructions soient indentées de 4 caractères comme en Python
- C le fait que les instructions suivent le mot clé while
- D le fait que les instructions suivent la parenthèse)

Question F 6

Quelle est la valeur de la variable n à la fin de l'exécution du script ci-dessous ?

```
n = 1
while n != 20:
    n = n + 2
```

Réponses

- A 1
- B 20
- C 22
- D le programme ne termine pas, la boucle tourne indéfiniment

Modèle CCYC : ©DNE

Nom de famille (naissance) :

(Suivi s'il y a lieu, du nom d'usage)

Prénom(s) :

N° candidat :

N° d'inscription :



(Les numéros figurent sur la convocation.)

Né(e) le :

1.1

Thème G : algorithmique

Question G 1

On considère la fonction Python suivante, qui prend en argument une liste L et renvoie le maximum des éléments de la liste :

```
def rechercheMaximum(L):  
    max = L[0]  
    for i in range(len(L)):  
        if L[i] > max:  
            max = L[i]  
    return max
```

On note n la taille de la liste.

Quelle est la complexité en nombre d'opérations de l'algorithme ?

Réponses

- A constante, c'est-à-dire ne dépend pas de n
- B linéaire, c'est-à-dire de l'ordre de n
- C quadratique, c'est-à-dire de l'ordre de n^2
- D cubique, c'est-à-dire de l'ordre de n^3

Question G 2

On définit la fonction suivante :

```
def traitement(liste) :  
    m = liste[0]  
    for i in range (len(liste)) :  
        if liste[i] > m:  
            m = liste[i]  
    return m
```

Que vaut `traitement([-2,5,6,-10,35])` ?

Réponses

- A None
- B -10
- C -6
- D 35

Question G 3

Quelle valeur permet de compléter l'affirmation suivante : « Le nombre d'opérations nécessaires pour rechercher un élément séquentiellement dans une liste de longueur n est de l'ordre de ... » ?

Réponses

- A 1
- B n
- C n^2
- D n^3

Question G 4



On considère le code suivant, où n désigne un entier au moins égal à 2.

```
p = 1
while p < n:
    p = 2*p
```

Quel argument permet d'affirmer que son exécution termine à coup sûr ?

Réponses

- A p est une puissance de 2
- B toute boucle `while` termine
- C les valeurs successives de p constituent une suite d'entiers positifs strictement croissante
- D les valeurs successives de $n - p$ constituent une suite d'entiers positifs strictement décroissante

Question G 5

À quelle catégorie appartient l'algorithme classique de rendu de monnaie ?

Réponses

- A les algorithmes de classification et d'apprentissage
- B les algorithmes de tri
- C les algorithmes gloutons
- D les algorithmes de mariages stables

Question G 6

La fonction suivante doit calculer la moyenne d'un tableau de nombres, passé en paramètre. Avec quelles expressions faut-il remplacer les points de suspension pour que la fonction soit correcte ?

```
def moyenne(tableau):
    total = ...
    for valeur in tableau:
        total = total + valeur
    return total / ...
```

Réponses

- A 1 et $(\text{len}(\text{tableau}) + 1)$
- B 1 et $\text{len}(\text{tableau})$
- C 0 et $(\text{len}(\text{tableau}) + 1)$
- D 0 et $\text{len}(\text{tableau})$