

Modèle CCYC : ©DNE

Nom de famille (naissance) :
(Suivi s'il y a lieu, du nom d'usage)

Prénom(s) :

N° candidat :

N° d'inscription :



Né(e) le :

(Les numéros figurent sur la convocation.)

1.1

Évaluation

CLASSE : Première

VOIE : Générale Technologique Toutes voies (LV)

ENSEIGNEMENT : spécialité Numérique et Sciences Informatiques (NSI)

DURÉE DE L'ÉPREUVE : 02 h 00

Niveaux visés (LV) : LVA LVB

Axes de programme :

CALCULATRICE AUTORISÉE : Oui Non

DICTIONNAIRE AUTORISÉ : Oui Non

Ce sujet contient des parties à rendre par le candidat avec sa copie. De ce fait, il ne peut être dupliqué et doit être imprimé pour chaque candidat afin d'assurer ensuite sa bonne numérisation.

Ce sujet intègre des éléments en couleur. S'il est choisi par l'équipe pédagogique, il est nécessaire que chaque élève dispose d'une impression en couleur.

Ce sujet contient des pièces jointes de type audio ou vidéo qu'il faudra télécharger et jouer le jour de l'épreuve.

Nombre total de pages : 18

L'épreuve consiste en 42 questions, rangées en 7 thèmes.

Pour chaque question, le candidat gagne 3 points s'il choisit la bonne réponse, perd 1 point s'il choisit une réponse fautive. S'il ne répond pas ou choisit plusieurs réponses, il ne gagne ni ne perd aucun point.

Le total sur chacun des 7 thèmes est ramené à 0 s'il est négatif.

La note finale s'obtient en divisant le total des points par 6,3 et en arrondissant à l'entier supérieur.

Le candidat indique ses réponses aux questions en pages 3 et 4.

Seules les pages 1 à 4 sont rendues par le candidat à la fin de l'épreuve, pour être numérisées.

Les questions figurent sur les pages suivantes.



Modèle CCYC : ©DNE

Nom de famille (naissance) :

(Suivi s'il y a lieu, du nom d'usage)

Prénom(s) :

N° candidat :

N° d'inscription :



Liberté • Égalité • Fraternité
RÉPUBLIQUE FRANÇAISE

Né(e) le :

(Les numéros figurent sur la convocation.)

1.1

Thème A : types de base

- Réponse à la question 1 A B C D
Réponse à la question 2 A B C D
Réponse à la question 3 A B C D
Réponse à la question 4 A B C D
Réponse à la question 5 A B C D
Réponse à la question 6 A B C D

Thème B : types construits

- Réponse à la question 1 A B C D
Réponse à la question 2 A B C D
Réponse à la question 3 A B C D
Réponse à la question 4 A B C D
Réponse à la question 5 A B C D
Réponse à la question 6 A B C D

Thème C : traitement de données en tables

- Réponse à la question 1 A B C D
Réponse à la question 2 A B C D
Réponse à la question 3 A B C D
Réponse à la question 4 A B C D
Réponse à la question 5 A B C D
Réponse à la question 6 A B C D

Thème D : interactions entre l'homme et la machine sur le Web

- Réponse à la question 1 A B C D
Réponse à la question 2 A B C D
Réponse à la question 3 A B C D
Réponse à la question 4 A B C D
Réponse à la question 5 A B C D
Réponse à la question 6 A B C D



Thème E : architectures matérielles et systèmes d'exploitation

Réponse à la question 1	A <input type="checkbox"/>	B <input type="checkbox"/>	C <input type="checkbox"/>	D <input type="checkbox"/>
Réponse à la question 2	A <input type="checkbox"/>	B <input type="checkbox"/>	C <input type="checkbox"/>	D <input type="checkbox"/>
Réponse à la question 3	A <input type="checkbox"/>	B <input type="checkbox"/>	C <input type="checkbox"/>	D <input type="checkbox"/>
Réponse à la question 4	A <input type="checkbox"/>	B <input type="checkbox"/>	C <input type="checkbox"/>	D <input type="checkbox"/>
Réponse à la question 5	A <input type="checkbox"/>	B <input type="checkbox"/>	C <input type="checkbox"/>	D <input type="checkbox"/>
Réponse à la question 6	A <input type="checkbox"/>	B <input type="checkbox"/>	C <input type="checkbox"/>	D <input type="checkbox"/>

Thème F : langages et programmation

Réponse à la question 1	A <input type="checkbox"/>	B <input type="checkbox"/>	C <input type="checkbox"/>	D <input type="checkbox"/>
Réponse à la question 2	A <input type="checkbox"/>	B <input type="checkbox"/>	C <input type="checkbox"/>	D <input type="checkbox"/>
Réponse à la question 3	A <input type="checkbox"/>	B <input type="checkbox"/>	C <input type="checkbox"/>	D <input type="checkbox"/>
Réponse à la question 4	A <input type="checkbox"/>	B <input type="checkbox"/>	C <input type="checkbox"/>	D <input type="checkbox"/>
Réponse à la question 5	A <input type="checkbox"/>	B <input type="checkbox"/>	C <input type="checkbox"/>	D <input type="checkbox"/>
Réponse à la question 6	A <input type="checkbox"/>	B <input type="checkbox"/>	C <input type="checkbox"/>	D <input type="checkbox"/>

Thème G : algorithmique

Réponse à la question 1	A <input type="checkbox"/>	B <input type="checkbox"/>	C <input type="checkbox"/>	D <input type="checkbox"/>
Réponse à la question 2	A <input type="checkbox"/>	B <input type="checkbox"/>	C <input type="checkbox"/>	D <input type="checkbox"/>
Réponse à la question 3	A <input type="checkbox"/>	B <input type="checkbox"/>	C <input type="checkbox"/>	D <input type="checkbox"/>
Réponse à la question 4	A <input type="checkbox"/>	B <input type="checkbox"/>	C <input type="checkbox"/>	D <input type="checkbox"/>
Réponse à la question 5	A <input type="checkbox"/>	B <input type="checkbox"/>	C <input type="checkbox"/>	D <input type="checkbox"/>
Réponse à la question 6	A <input type="checkbox"/>	B <input type="checkbox"/>	C <input type="checkbox"/>	D <input type="checkbox"/>

Modèle CCYC : ©DNE

Nom de famille (naissance) :

(Suivi s'il y a lieu, du nom d'usage)

Prénom(s) :

N° candidat : N° d'inscription :

(Les numéros figurent sur la convocation.)

Né(e) le : / /



1.1

Thème A : types de base

Question A 1

Quel est le nombre minimum de bits qui permet de représenter les 26 lettres majuscules de l'alphabet ?

Réponses

- A 4
- B 5
- C 25
- D 26

Question A 2

Parmi les caractères ci-dessous, lequel ne fait pas partie du code ASCII ?

Réponses

- A a
- B B
- C @
- D é

Question A 3

À quelle affectation sont équivalentes les instructions suivantes, où a, b sont des variables entières et c une variable booléenne ?

```

c = False
if a==b:
    c = True
if a > b+10:
    c = True

```

Réponses

- A $c = (a==b) \text{ or } (a > b+10)$
- B $c = (a==b) \text{ and } (a > b+10)$
- C $c = \text{not}(a==b)$
- D $c = \text{not}(a > b+10)$

Question A 4

Quel est un avantage du codage UTF8 par rapport au codage ASCII ?

Réponses

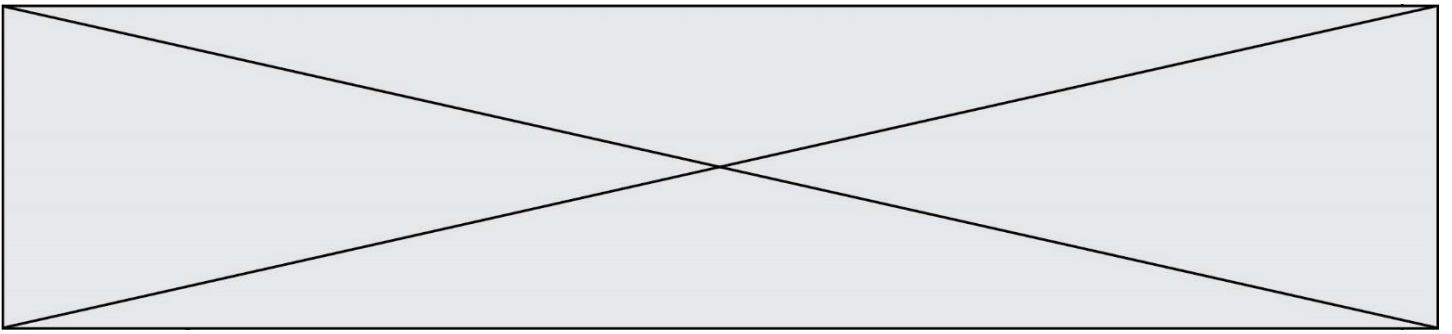
- A il permet de coder un caractère sur un octet au lieu de deux
- B il permet de coder les majuscules
- C il permet de coder tous les caractères
- D il permet de coder différentes polices de caractères

Question A 5

À quoi sert le codage en complément à 2 ?

Réponses

- A à inverser un nombre binaire



- B à coder des nombres entiers négatifs en binaire
- C à convertir un nombre en hexadécimal
- D à multiplier par 2 un nombre en binaire

Question A 6

Quelle est l'écriture décimale de l'entier positif dont l'écriture binaire est 00101001 ?

Réponses

- A 25
- B 41
- C 81
- D 101001

Modèle CCYC : ©DNE

Nom de famille (naissance) :


(Suivi s'il y a lieu, du nom d'usage)

Prénom(s) :

N° candidat : N° d'inscription :

(Les numéros figurent sur la convocation.)

Né(e) le : / /



1.1

Thème B : types construits

Question B 1

t1 est un tableau à n lignes et n colonnes. On souhaite remplir un tableau t2 de mêmes dimensions que t1 avec les contraintes suivantes : les lignes de t2 sont les colonnes de t1 et les colonnes de t2 sont les lignes de t1.

Par quelle instruction faut-il remplacer la ligne en pointillées du code suivant ?

```
for i in range(n):
    for j in range(n):
        .....
```

Réponses

- A t1[i][j] = t2[j][i]
- B t2[j][i] = t1[j][i]
- C t1[j][i] = t2[i][j]
- D t2[i][j] = t1[j][i]

Question B 2

Quelle est la valeur de L à la fin de l'exécution du script suivant ?

```
def f(L):
    temp = L[0]
    for i in range(len(L)-1):
        L[i] = L[i+1]
    L[-1] = temp
```

```
L = [1, 2, 3, 4, 5]
f(L)
```

Réponses

- A [2, 3, 4, 5, 1]
- B [5, 1, 2, 3, 4]
- C [5, 4, 3, 2, 1]
- D [3, 4, 5, 1, 2]

Question B 3

On définit :

```
dico = {"Herve": 15, "Kevin":17, "Fatima":16}
```

qui associe nom et âge de trois élèves.

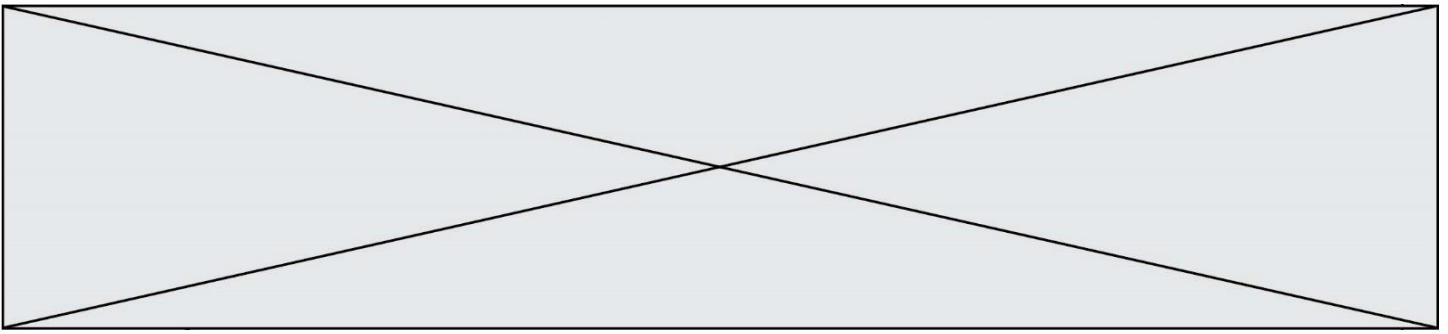
Comment accéder à l'âge de Kevin ?

Réponses

- A dico[1]
- B dico[Kevin]
- C dico["Kevin"]
- D dico("Kevin")

Question B 4

On considère le code suivant :



```
t = [0, 3, 5, 7, 9]
t[9] = 3 + t[5]
```

Que vaut t à la fin de son exécution ?

Réponses

- A [0, 3, 5, 7, 9]
- B [0, 3, 5, 7, 9, 3]
- C [0, 3, 5, 7, 9, 8]
- D l'exécution déclenche une erreur

Question B 5

On exécute le code suivant :

```
placard = { 'chemise': 3, 'pantalon': 6, 'tee shirt': 7 }
placard['chaussette'] = 4
placard['chemise'] = 5
```

```
L = list(placard.values())
```

Quelle est la valeur de la variable L à l'issue de cette exécution ?

Réponses

- A [3, 6, 7]
- B [3, 6, 7, 4]
- C [5, 6, 7]
- D [5, 6, 7, 4]

Question B 6

Que vaut l'expression [2*k for k in range(5)] ?

Réponses

- A [0,2,4,6,8]
- B [2,4,6,8,10]
- C [1,2,4,8,16]
- D [2,4,8,16,32]

Modèle CCYC : ©DNE

Nom de famille (naissance) :

(Suivi s'il y a lieu, du nom d'usage)

Prénom(s) :

N° candidat : N° d'inscription :

(Les numéros figurent sur la convocation.)

Né(e) le : / /



1.1

Thème C : traitement de données en tables

Question C 1

Laquelle de ces listes de chaînes de caractères est triée en ordre croissant ?

Réponses

- A ['Chat', 'Chien', 'Cheval', 'Cochon']
- B ['Chat', 'Cheval', 'Chien', 'Cochon']
- C ['Chien', 'Cheval', 'Cochon', 'Chat']
- D ['Cochon', 'Chien', 'Cheval', 'Chat']

Question C 2

Quelle est la valeur de la variable `table` à la fin de l'exécution du script suivant :

```
table = [[1, 2, 3], [1, 2, 3], [1, 2, 3], [1, 2, 3]]
table [1][2] = 5
```

Réponses

- A [[1, 5, 3], [1, 2, 3], [1, 2, 3], [1, 2, 3]]
- B [[1, 2, 3], [5, 2, 3], [1, 2, 3], [1, 2, 3]]
- C [[1, 2, 3], [1, 2, 5], [1, 2, 3], [1, 2, 3]]
- D [[1, 2, 3], [1, 2, 3], [1, 2, 3], [1, 5, 3]]

Question C 3

On utilise habituellement un fichier d'extension `csv` pour quel type de données ?

Réponses

- A des données structurées graphiquement
- B des données sonores
- C des données compressées
- D des données structurées en tableau

Question C 4

On exécute le code suivant :

```
table = [ ['lovelace', 'ada', 1815, 1852],
          ['von neumann', 'john', 1903, 1957],
          ['turing', 'alan', 1912, 1954],
          ['mccarthy', 'john', 1927, 2011],
          ['floyd', 'robert', 1936, 2001] ]
L = []
```

```
for index in range(len(table)):
    if table[index][3] > 1954:
        L.append(index)
```

Quelle est la valeur de la liste `L` à la suite de cette exécution ?

Réponses

- A ['von neumann', 'mccarthy', 'floyd']
- B [1957, 2011, 2001]
- C [1, 3, 4]
- D ['lovelace', 'turing']

Question C 5



On a défini deux tables de données :

```
data1 = [('Bruce', 'Wayne'), ('Chuck', 'Norris'), ('Bruce', 'Lee'), ('Clark', 'Kent')]
data2 = [('Diana', 'Prince'), ('Chuck', 'Norris'), ('Peter', 'Parker')]
```

Quelle instruction permet de construire une table data regroupant l'ensemble des informations de data1 et data2 ?

Réponses

- A data = data1 + data2
- B data == data1 + data2
- C data = [element for element in data1 or data2]
- D data = [data1] + [data2]

Question C 6

On considère une table de données <films> qui est une liste de dictionnaires "Titre", "Réalisateur", "Date". Un enregistrement de la table contient un titre de film, le nom de son réalisateur et l'année de sortie du film.

```
films = [{"Titre": "ET", "Réalisateur": "Spielberg", "Date": 1982},
         {"Titre": "Ready Player One", "Réalisateur": "Spielberg", "Date": 2018},
         {"Titre": "The Artist", "Réalisateur": "Hazanavicius", "Date": 2011},
         ...]
```

On souhaite obtenir la liste des films réalisés par "Spielberg" ou par "Hazanavicius" depuis l'année 2000. Quelle doit être la condition utilisée pour sélectionner les enregistrements correspondants, lors du parcours de la table ?

Réponses

- A (film["Réalisateur"] == "Spielberg" or film["Réalisateur"] == "Hazanavicius") and film["Date"] >= 2000
- B film["Réalisateur"] == "Spielberg" and film["Réalisateur"] == "Hazanavicius" and film["Date"] >= 2000
- C film["Réalisateur"] == "Spielberg" or film["Réalisateur"] == "Hazanavicius" or film["Date"] >= 2000
- D (film["Réalisateur"] == "Spielberg" and film["Réalisateur"] == "Hazanavicius") or film["Date"] >= 2000

Modèle CCYC : ©DNE

Nom de famille (naissance) :


(Suivi s'il y a lieu, du nom d'usage)

Prénom(s) :

N° candidat : N° d'inscription :

(Les numéros figurent sur la convocation.)

Né(e) le : / /



1.1

Thème D : interactions entre l'homme et la machine sur le Web

Question D 1

Que peut-on comprendre en lisant l'URL : https://www.myfalselink.com/results?search_query=NSI ?

Réponses

- A Le protocole utilisé pour naviguer est sécurisé
- B Une recherche sur le mot NSI a été faite mais il n'y a pas de réponse
- C Ce site est situé dans un pays anglophone
- D Le lien ne fonctionnera pas car le caractère '?' n'est pas autorisé dans une URL

Question D 2

Comment s'appelle la méthode permettant de transmettre les variables en les faisant apparaître dans la barre d'adresse du navigateur ?

Réponses

- A URL
- B HEAD
- C POST
- D GET

Question D 3

Parmi les propriétés suivantes d'une balise `<button />` dans une page HTML, laquelle doit être rédigée en langage JavaScript ?

Réponses

- A la propriété name
- B la propriété type
- C la propriété onclick
- D la propriété id

Question D 4

Qu'affiche cet extrait de code HTML en supposant que le fichier *photo-lycee.jpg* se trouve bien dans le dossier *images* ?

```
<a href='photo.html'><img src='images/photo-lycee.jpg' alt='Photo du Lycée' /></a>
```

Réponses

- A seulement l'image contenue dans le fichier photo-lycee.jpg
- B seulement le texte Photo du Lycée
- C l'image contenue dans le fichier photo-lycee.jpg avec le texte Photo du Lycée en légende
- D la page Web photo.html

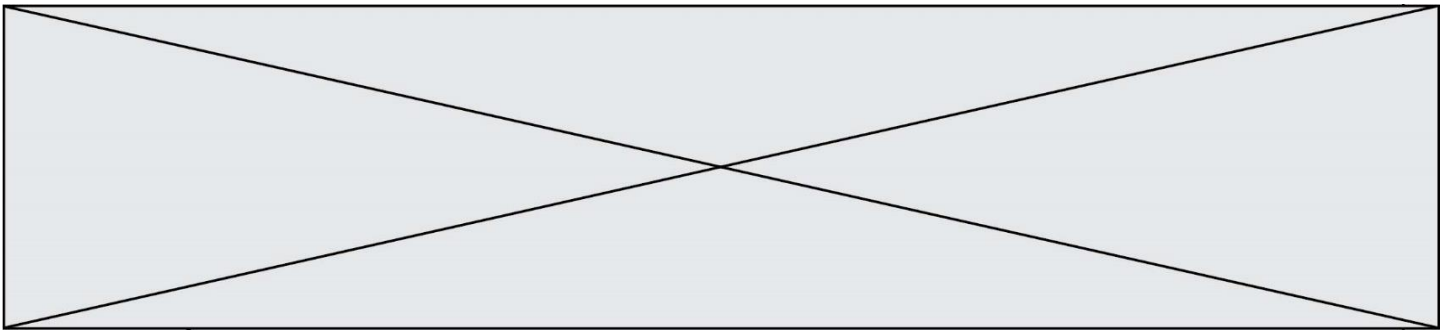
Question D 5

Lors de la consultation d'une page HTML, contenant un bouton dans lequel on ajoute l'attribut suivant, que se passe-t-il quand on clique sur ce bouton ?

```
<button onclick="this.style.color='red'">
```

Réponses

- A le pointeur de souris devient rouge lorsqu'il arrive sur le bouton



- B le texte du bouton devient rouge
- C le texte du bouton est remplacé par le mot "red"
- D le texte de la page passe en rouge

Question D 6

Quelle URL parmi les suivantes témoigne que l'échange entre le navigateur et le serveur est chiffré ?

Réponses

- A <http://www.mabanque.com/>
- B <http://www.mabanque.fr/>
- C <https://www.mabanque.fr/>
- D <http://secure.mabanque.fr/>

Modèle CCYC : ©DNE

Nom de famille (naissance) :

(Suivi s'il y a lieu, du nom d'usage)

Prénom(s) :

N° candidat : N° d'inscription :

(Les numéros figurent sur la convocation.)

Né(e) le : / /



1.1

Thème E : architectures matérielles et systèmes d'exploitation

Question E 1

Dans un établissement scolaire, tous les ordinateurs sont reliés au réseau local par l'intermédiaire de câbles Ethernet ; il n'existe pas de liaisons sans fil. Dans chaque salle d'ordinateurs, les machines sont reliées à un commutateur. Chaque commutateur est relié par un câble jusqu'à la salle où se situe le serveur contrôleur de domaine et la passerelle internet (routeur).

En début de séance, aucune personne de votre classe n'arrive à se connecter. Le même message d'erreur s'affiche « Aucun serveur d'authentification n'est joignable sur le réseau. » Parmi ces quatre propositions, laquelle est la plus vraisemblable ?

Réponses

- A Un de vos camarades a débranché accidentellement le câble Ethernet de votre machine.
- B Le câble qui relie le serveur et la passerelle a été débranché.
- C Le commutateur de la salle est indisponible (il a été débranché ou est en panne).
- D La passerelle internet de l'établissement est indisponible (elle a été débranchée ou est en panne).

Question E 2

Parmi ces propositions, laquelle désigne un système d'exploitation libre ?

Réponses

- A LibreOffice
- B Windows
- C MacOS
- D GNU-Linux

Question E 3

Sous Linux, les droits d'accès à un fichier dont le propriétaire est Joseph sont les suivants : -rwxr-xr--. Laquelle des affirmations suivantes est **fausse** ?

Réponses

- A Joseph a l'autorisation de lire ce fichier
- B les membres du groupe de Joseph ont l'autorisation de lire ce fichier
- C tous les utilisateurs ont l'autorisation de lire ce fichier
- D les membres du groupe de Joseph ont l'autorisation de modifier ce fichier

Question E 4

Comment s'appelle l'ensemble des règles qui régissent les échanges sur Internet ?

Réponses

- A les couches
- B le wifi
- C les protocoles
- D les commutateurs

Question E 5

Parmi les éléments suivants, lequel n'est pas un capteur ?



Réponses

- A un haut-parleur
- B une caméra
- C un écran tactile
- D un microphone

Question E 6

Quelle est l'utilité de la commande ping dans un réseau informatique ?

Réponses

- A établir un réseau privé virtuel
- B tester si la connexion peut être établie avec une machine distante
- C obtenir la route suivie par un paquet dans le réseau
- D mesurer les performances d'une machine distante

Modèle CCYC : ©DNE

Nom de famille (naissance) :


(Suivi s'il y a lieu, du nom d'usage)

Prénom(s) :

N° candidat : N° d'inscription :

(Les numéros figurent sur la convocation.)

Né(e) le : / /



1.1

Thème F : langages et programmation

Question F 1

Un programme Python commence par la ligne :

```
import os
```

À quoi sert cette ligne ?

Réponses

- A c'est le début du squelette de tout programme Python
- B c'est la déclaration du système d'exploitation (*operating system*)
- C Python 3.6 exige cette ligne au début de tout programme
- D c'est la déclaration d'une bibliothèque (ou module) que le programme compte utiliser

Question F 2

La fonction `maximum` codée ci-dessous en Python doit renvoyer la plus grande valeur contenue dans le tableau d'entiers passé en argument.

```
def maximum(tableau):
    tmp = tableau[0]
    for i in range(.....): # à compléter
        if tableau[i] > tmp:
            tmp = tableau[i]
    return tmp
```

Quelle expression faut-il écrire à la place des pointillés ?

Réponses

- A `len(tableau) - 1`
- B `1, len(tableau) - 1`
- C `1, len(tableau)`
- D `1, len(tableau) + 1`

Question F 3

On exécute le code suivant :

```
def f(t):
    n = len(t)
    for i in range(n-1):
        if t[i] > t[i+1]:
            t[i], t[i+1] = t[i+1], t[i]
```

```
L = [4, 8, -7, 0, 1]
f(L)
```

Quelle est la valeur de L après l'exécution de ce code ?

Réponses

- A `[4, -7, 8, 0, 1]`
- B `[-7, 0, 1, 4, 8]`
- C `[4, 8, -7, 0, 1]`
- D `[4, -7, 0, 1, 8]`



Question F 4

On exécute le script suivant.

```
n = 6
s = 0
while n >= 0:
    s = s + n
    n = n - 1
```

Que contient la variable s à la fin de cette exécution ?

Réponses

- A 0
- B 6
- C 15
- D 21

Question F 5

n étant un entier strictement positif, la fonction suivante calcule sa factorielle, c'est-à-dire le produit $1 \times 2 \times 3 \times \dots \times (n - 1) \times n$. Comment faut-il écrire la ligne en pointillés ci-dessous pour ce faire ?

```
def factorielle(n):
    f = 1
    .....
    f = f * i
    return f
```

Réponses

- A for i in range(1,n):
- B for i in range(n+1):
- C for i in range(0,n):
- D for i in range(1,n+1):

Question F 6

La fonction Python suivante ne calcule pas toujours correctement le résultat de x^y pour des arguments entiers. Parmi les tests suivants, lequel va permettre de détecter l'erreur ?

```
def puissance (x,y):
    p = x
    for i in range (y - 1):
        p = p * x
    return p
```

Réponses

- A puissance(2,0)
- B puissance(2,1)
- C puissance(2,2)
- D puissance(2,10)

Modèle CCYC : ©DNE

Nom de famille (naissance) :

(Suivi s'il y a lieu, du nom d'usage)

Prénom(s) :

N° candidat :

N° d'inscription :



(Les numéros figurent sur la convocation.)

Né(e) le :

1.1

Thème G : algorithmique

Question G 1

La fonction maximum doit renvoyer la valeur maximale d'un tableau de nombres. Par quoi doit-on remplacer les pointillés pour qu'elle donne le résultat attendu ?

```
def maximum(T):  
    maxi = T[0]  
    for i in range(len(T)):  
        .... T[i] > maxi:  
            .....  
    return maxi
```

Réponses

- A if puis, sur la ligne suivante, `maxi = T[i]`
- B while puis, sur la ligne suivante, `maxi = T[i]`
- C if puis, sur la ligne suivante, `maxi = maxi + 1`
- D while puis, sur la ligne suivante, `maxi = maxi + 1`

Question G 2

Quelle est la valeur de `element` à la fin de l'exécution du code suivant :

```
L = [1,2,3,4,1,2,3,4,0,2]
```

```
element = L[0]  
for k in L:  
    if k > element:  
        element = k
```

Réponses

- A 0
- B 1
- C 4
- D 10

Question G 3

Pour trier par sélection une liste de 2500 entiers, le nombre de comparaisons nécessaires à l'algorithme est de l'ordre de :

Réponses

- A $\sqrt{2500}$
- B 2500
- C 2500^2
- D 2^{2500}

Question G 4

Un algorithme de recherche dichotomique sur un tableau trié de mille entiers s'exécute en 50 millisecondes. Quelle est la durée approximative de son exécution sur un tableau trié d'un million d'entiers ?


Réponses



- A la même durée : environ 50 millisecondes
- B une durée environ deux fois plus longue : environ 100 millisecondes
- C une durée environ mille fois plus longue : environ 50 secondes
- D une durée qui dépasserait l'année, car la complexité de l'algorithme est exponentielle

Question G 5

Au cours d'un tri de tableau, on observe les étapes suivantes :



Quel est l'algorithme qui a été utilisé ?

Réponses

- A tri par sélection
- B glouton
- C tri par insertion
- D dichotomique

Question G 6

Qu'effectue-t-on en lançant la commande suivante dans un terminal Linux :

```
mv /etc/professeur/fichier.conf /home/nsi/fichier.conf
```

Réponses

- A un déplacement de fichier
- B une copie de fichier
- C un renommage de fichier
- D un changement de répertoire