

Modèle CCYC : ©DNE

Nom de famille (naissance) :

(Suivi s'il y a lieu, du nom d'usage)

Prénom(s) :

N° candidat :

N° d'inscription :



(Les numéros figurent sur la convocation.)

Né(e) le :

1.1

## Évaluation

**CLASSE** : Première

**VOIE** :  Générale  Technologique  Toutes voies (LV)

**ENSEIGNEMENT** : spécialité Numérique et Sciences Informatiques (NSI)

**DURÉE DE L'ÉPREUVE** : 02 h 00

**Niveaux visés (LV)** : LVA LVB

**Axes de programme** :

**CALCULATRICE AUTORISÉE** :  Oui  Non

**DICTIONNAIRE AUTORISÉ** :  Oui  Non

Ce sujet contient des parties à rendre par le candidat avec sa copie. De ce fait, il ne peut être dupliqué et doit être imprimé pour chaque candidat afin d'assurer ensuite sa bonne numérisation.

Ce sujet intègre des éléments en couleur. S'il est choisi par l'équipe pédagogique, il est nécessaire que chaque élève dispose d'une impression en couleur.

Ce sujet contient des pièces jointes de type audio ou vidéo qu'il faudra télécharger et jouer le jour de l'épreuve.

**Nombre total de pages** : 19

L'épreuve consiste en 42 questions, rangées en 7 thèmes.

Pour chaque question, le candidat gagne 3 points s'il choisit la bonne réponse, perd 1 point s'il choisit une réponse fausse. S'il ne répond pas ou choisit plusieurs réponses, il ne gagne ni ne perd aucun point.

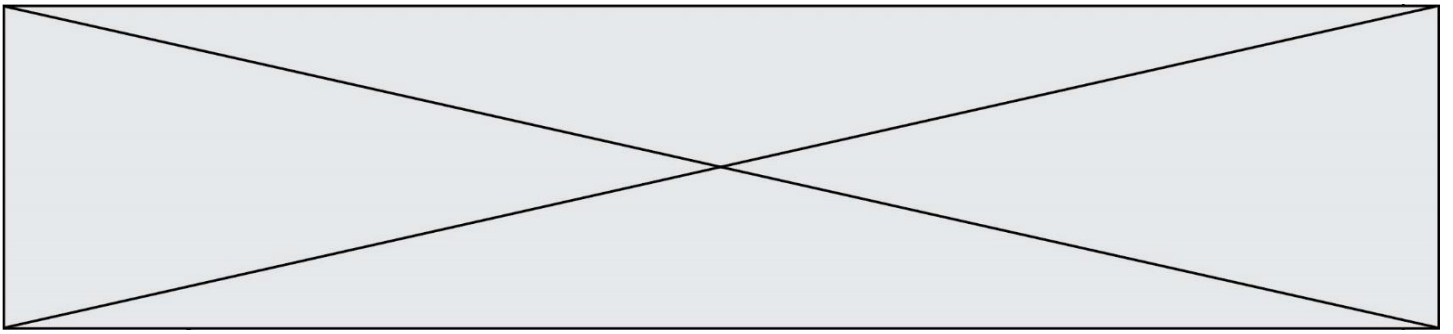
Le total sur chacun des 7 thèmes est ramené à 0 s'il est négatif.

La note finale s'obtient en divisant le total des points par 6,3 et en arrondissant à l'entier supérieur.

**Le candidat indique ses réponses aux questions en pages 3 et 4.**

**Seules les pages 1 à 4 sont rendues par le candidat à la fin de l'épreuve, pour être numérisées.**

Les questions figurent sur les pages suivantes.



Modèle CCYC : ©DNE

Nom de famille (naissance) :

(Suivi s'il y a lieu, du nom d'usage)

Prénom(s) :

N° candidat :

N° d'inscription :



Liberté • Égalité • Fraternité  
RÉPUBLIQUE FRANÇAISE

(Les numéros figurent sur la convocation.)

Né(e) le :

1.1

### Thème A : types de base

- Réponse à la question 1    A     B     C     D   
Réponse à la question 2    A     B     C     D   
Réponse à la question 3    A     B     C     D   
Réponse à la question 4    A     B     C     D   
Réponse à la question 5    A     B     C     D   
Réponse à la question 6    A     B     C     D

### Thème B : types construits

- Réponse à la question 1    A     B     C     D   
Réponse à la question 2    A     B     C     D   
Réponse à la question 3    A     B     C     D   
Réponse à la question 4    A     B     C     D   
Réponse à la question 5    A     B     C     D   
Réponse à la question 6    A     B     C     D

### Thème C : traitement de données en tables

- Réponse à la question 1    A     B     C     D   
Réponse à la question 2    A     B     C     D   
Réponse à la question 3    A     B     C     D   
Réponse à la question 4    A     B     C     D   
Réponse à la question 5    A     B     C     D   
Réponse à la question 6    A     B     C     D

### Thème D : interactions entre l'homme et la machine sur le Web

- Réponse à la question 1    A     B     C     D   
Réponse à la question 2    A     B     C     D   
Réponse à la question 3    A     B     C     D   
Réponse à la question 4    A     B     C     D   
Réponse à la question 5    A     B     C     D   
Réponse à la question 6    A     B     C     D



### **Thème E : architectures matérielles et systèmes d'exploitation**

- |                         |                            |                            |                            |                            |
|-------------------------|----------------------------|----------------------------|----------------------------|----------------------------|
| Réponse à la question 1 | A <input type="checkbox"/> | B <input type="checkbox"/> | C <input type="checkbox"/> | D <input type="checkbox"/> |
| Réponse à la question 2 | A <input type="checkbox"/> | B <input type="checkbox"/> | C <input type="checkbox"/> | D <input type="checkbox"/> |
| Réponse à la question 3 | A <input type="checkbox"/> | B <input type="checkbox"/> | C <input type="checkbox"/> | D <input type="checkbox"/> |
| Réponse à la question 4 | A <input type="checkbox"/> | B <input type="checkbox"/> | C <input type="checkbox"/> | D <input type="checkbox"/> |
| Réponse à la question 5 | A <input type="checkbox"/> | B <input type="checkbox"/> | C <input type="checkbox"/> | D <input type="checkbox"/> |
| Réponse à la question 6 | A <input type="checkbox"/> | B <input type="checkbox"/> | C <input type="checkbox"/> | D <input type="checkbox"/> |

### **Thème F : langages et programmation**

- |                         |                            |                            |                            |                            |
|-------------------------|----------------------------|----------------------------|----------------------------|----------------------------|
| Réponse à la question 1 | A <input type="checkbox"/> | B <input type="checkbox"/> | C <input type="checkbox"/> | D <input type="checkbox"/> |
| Réponse à la question 2 | A <input type="checkbox"/> | B <input type="checkbox"/> | C <input type="checkbox"/> | D <input type="checkbox"/> |
| Réponse à la question 3 | A <input type="checkbox"/> | B <input type="checkbox"/> | C <input type="checkbox"/> | D <input type="checkbox"/> |
| Réponse à la question 4 | A <input type="checkbox"/> | B <input type="checkbox"/> | C <input type="checkbox"/> | D <input type="checkbox"/> |
| Réponse à la question 5 | A <input type="checkbox"/> | B <input type="checkbox"/> | C <input type="checkbox"/> | D <input type="checkbox"/> |
| Réponse à la question 6 | A <input type="checkbox"/> | B <input type="checkbox"/> | C <input type="checkbox"/> | D <input type="checkbox"/> |

### **Thème G : algorithmique**

- |                         |                            |                            |                            |                            |
|-------------------------|----------------------------|----------------------------|----------------------------|----------------------------|
| Réponse à la question 1 | A <input type="checkbox"/> | B <input type="checkbox"/> | C <input type="checkbox"/> | D <input type="checkbox"/> |
| Réponse à la question 2 | A <input type="checkbox"/> | B <input type="checkbox"/> | C <input type="checkbox"/> | D <input type="checkbox"/> |
| Réponse à la question 3 | A <input type="checkbox"/> | B <input type="checkbox"/> | C <input type="checkbox"/> | D <input type="checkbox"/> |
| Réponse à la question 4 | A <input type="checkbox"/> | B <input type="checkbox"/> | C <input type="checkbox"/> | D <input type="checkbox"/> |
| Réponse à la question 5 | A <input type="checkbox"/> | B <input type="checkbox"/> | C <input type="checkbox"/> | D <input type="checkbox"/> |
| Réponse à la question 6 | A <input type="checkbox"/> | B <input type="checkbox"/> | C <input type="checkbox"/> | D <input type="checkbox"/> |

Modèle CCYC : ©DNE

Nom de famille (naissance) :

(Suivi s'il y a lieu, du nom d'usage)

Prénom(s) :

N° candidat :  N° d'inscription :

(Les numéros figurent sur la convocation.)

Né(e) le :  /  /



1.1

## Thème A : types de base

### Question A 1

L'entier positif 255 se représente en hexadécimal (base 16) par :

#### Réponses

- A 99
- B AA
- C CC
- D FF

### Question A 2

Le résultat de l'addition en binaire  $101001 + 101$  est égal au nombre binaire :

#### Réponses

- A 101102
- B 010101
- C 101110
- D 110000

### Question A 3

Sur une page web qui s'affiche sur notre navigateur on peut lire : « En conséquence, l'Assemblée Nationale reconnaît et déclare, en présence [...] »

Quelle peut être la cause des affichages étranges de cette page ?

#### Réponses

- A l'encodage des caractères n'est pas celui attendu par le navigateur
- B le texte original est en japonais
- C la taille des caractères n'est pas celui attendu par le navigateur
- D la connexion à Internet présente des coupures

### Question A 4

Parmi les quatre nombres suivants lequel est le seul à pouvoir être représenté de façon exacte en machine ?

#### Réponses

- A 3.1
- B 4.2
- C 5.24
- D 7.25

### Question A 5

Que peut-on dire du programme Python suivant de calcul sur les nombres flottants ?

```
x = 1.0
while x != 0.0:
    x = x - 0.1
```



**Réponses**

- A l'exécution peut ne pas s'arrêter, si la variable x n'est jamais exactement égale à 0.0
- B à la fin de l'exécution, x vaut - 0.00001
- C à la fin de l'exécution, x vaut 0.00001
- D l'exécution s'arrête sur une erreur FloatingPointError

**Question A 6**

À quelle affectation sont équivalentes les instructions suivantes, où a, b sont des variables entières et c une variable booléenne ?

```
if a==b:
    c = True
elif a > b+10:
    c = True
else:
    c = False
```

**Réponses**

- A  $c = (a==b) \text{ or } (a > b+10)$
- B  $c = (a==b) \text{ and } (a > b+10)$
- C  $c = \text{not}(a==b)$
- D  $c = \text{not}(a > b+10)$

Modèle CCYC : ©DNE

Nom de famille (naissance) :


(Suivi s'il y a lieu, du nom d'usage)

Prénom(s) :

N° candidat :  N° d'inscription :

(Les numéros figurent sur la convocation.)

Né(e) le :  /  /



1.1

## Thème B : types construits

### Question B 1

On définit :

```
L = [ ["lundi", 10, 0.87], ["mardi", 11, 0.82], ["mercredi", 12, 0.91] ]
```

Quel est le type de la variable a définie par  $a = L[1][2]$  ?

#### Réponses

- A nombre entier
- B liste
- C nombre flottant
- D chaîne de caractères

### Question B 2

Quel est le type de l'expression  $f(4)$  si la fonction  $f$  est définie par :

```
def f(x):
    return (x, x**2)
```

#### Réponses

- A un entier
- B un flottant
- C une liste
- D un tuple

### Question B 3

On dispose d'une liste définie par  $L = [15, 17, 12, 23]$ .

Quelle est la valeur de  $L$  après l'instruction  $L[2] = 25$  ?

#### Réponses

- A [15, 25, 12, 23]
- B [15, 17, 25, 12, 23]
- C [15, 17, 25, 23]
- D [15, 17, 12, 25, 23]

### Question B 4

Voici une définition incomplète d'une fonction qui renvoie le couple du quotient et du reste de la division euclidienne :

```
def divEuclid(n,d):
    '''renvoie le couple formé du quotient et du reste dans la division de n par d'''
    q = 0
    while n-d > 0:
        q = q + 1
        n = n - d
    .....
```

Par quelle instruction faut-il remplacer la ligne en pointillés pour que l'appel

```
(quotient, reste) = divEuclid(15,6)
```



affecte les valeurs attendues ?

**Réponses**

- A (q,n)
- B (quotient,reste)
- C return (q,n)
- D return (quotient,reste)

**Question B 5**

On définit un dictionnaire : `d = { 'couleur': 'vert', 'taille': 42, 'marque': 'le coq sportif' }`  
Quelle est la valeur de l'expression `[k for k in d.keys()]` ?

**Réponses**

- A ['couleur', 'taille', 'marque']
- B [('couleur', 'vert'), ('taille', 42), ('marque', 'le coq sportif')]
- C ['vert', 42, 'le coq sportif']
- D ['couleur': 'vert', 'taille': 42, 'marque': 'le coq sportif']

**Question B 6**

`t1` est un tableau à `n` lignes et `n` colonnes. On souhaite remplir un tableau `t2` de mêmes dimensions que `t1` avec les contraintes suivantes : les lignes de `t2` sont les colonnes de `t1` et les colonnes de `t2` sont les lignes de `t1`.

Par quelle instruction faut-il remplacer la ligne en pointillées du code suivant ?

```
for i in range(n):  
    for j in range(n):  
        .....
```

**Réponses**

- A `t1[i][j] = t2[j][i]`
- B `t2[j][i] = t1[j][i]`
- C `t1[j][i] = t2[i][j]`
- D `t2[i][j] = t1[j][i]`



Modèle CCYC : ©DNE

Nom de famille (naissance) :

(Suivi s'il y a lieu, du nom d'usage)

Prénom(s) :

N° candidat :  N° d'inscription :

(Les numéros figurent sur la convocation.)

Né(e) le :  /  /

 RÉPUBLIQUE FRANÇAISE

1.1

## Thème C : traitement de données en tables

### Question C 1

On exécute le script suivant :

```
a = [1, 2, 3]
b = [4, 5, 6]
c = a + b
```

Que contient la variable c à la fin de cette exécution ?

### Réponses

- A [5,7,9]
- B [1,4,2,5,3,6]
- C [1,2,3,4,5,6]
- D [1,2,3,5,7,9]

### Question C 2

Quelle est la valeur de la variable image après exécution du programme Python suivant ?

```
image = [[0, 0, 0, 0],
          [0, 0, 0, 0],
          [0, 0, 0, 0],
          [0, 0, 0, 0]]
for i in range(4):
    for j in range(4):
        if (i+j) == 3:
            image[i][j] = 1
```

### Réponses

- A [[0, 0, 0, 0], [0, 0, 0, 0], [0, 0, 0, 0], [1, 1, 1, 1]]
- B [[0, 0, 0, 1], [0, 0, 0, 1], [0, 0, 0, 1], [0, 0, 0, 1]]
- C [[0, 0, 0, 1], [0, 0, 1, 0], [0, 1, 0, 0], [1, 0, 0, 0]]
- D [[0, 0, 0, 1], [0, 0, 1, 1], [0, 1, 1, 1], [1, 1, 1, 1]]

### Question C 3

On définit :

```
contacts = { 'Toto': 'toto@nsi.fr', 'Chloé': 'chloe@nsi.com',
             'Paul': 'paul@nsi.net', 'Clémence': 'clemence@nsi.org' }
```

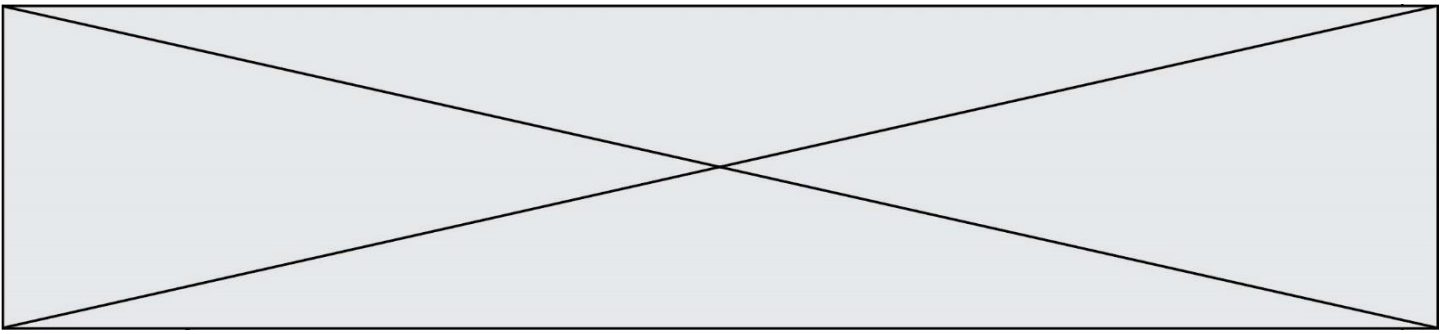
Parmi les propositions suivantes, laquelle est exacte ?

### Réponses

- A 'Chloé' est une **valeur** de la variable contacts
- B 'Chloé' est une **clé** de la variable contacts
- C 'Chloé' est un **attribut** de la variable contacts
- D 'Chloé' est un **champ** de la variable contacts

### Question C 4

On définit ainsi une liste t puis une liste r :



```
t = [ {'id':1, 'age':23, 'sejour':'PEKIN'},  
      {'id':2, 'age':27, 'sejour':'ISTANBUL'},  
      {'id':3, 'age':53, 'sejour':'LONDRES'},  
      {'id':4, 'age':41, 'sejour':'ISTANBUL'},  
      {'id':5, 'age':62, 'sejour':'RIO'},  
      {'id':6, 'age':28, 'sejour':'ALGER'}]
```

```
r = [ c for c in t if c['age']>30 and c['sejour']=='ISTANBUL' ]
```

Combien la liste r contient-elle d'éléments ?

**Réponses**

- A 0
- B 1
- C 2
- D 3

#### Question C 5

On exécute le code suivant :

```
collection = [('Renault', '4L', 1974, 30),  
              ('Peugeot', '504', 1970, 82),  
              ('Citroën', 'Traction', 1950, 77)]
```

Que vaut collection[1][2] ?

**Réponses**

- A 1970
- B '4L'
- C ('Peugeot', '504', 1970, 82)
- D ('Renault', '4L', 1974, 30)

#### Question C 6

Quelle est la valeur de la variable table à la fin de l'exécution du script suivant :

```
table = [[1, 2, 3], [1, 2, 3], [1, 2, 3], [1, 2, 3]]  
table [1][2] = 5
```

**Réponses**

- A [[1, 5, 3], [1, 2, 3], [1, 2, 3], [1, 2, 3]]
- B [[1, 2, 3], [5, 2, 3], [1, 2, 3], [1, 2, 3]]
- C [[1, 2, 3], [1, 2, 5], [1, 2, 3], [1, 2, 3]]
- D [[1, 2, 3], [1, 2, 3], [1, 2, 3], [1, 5, 3]]

Modèle CCYC : ©DNE

Nom de famille (naissance) :

(Suivi s'il y a lieu, du nom d'usage)

Prénom(s) :

N° candidat :  N° d'inscription :

(Les numéros figurent sur la convocation.)

Né(e) le :  /  /



1.1

## Thème D : interactions entre l'homme et la machine sur le Web

### Question D 1

Dans une page HTML, lequel de ces codes permet la présence d'un bouton qui appelle la fonction javascript `afficher_reponse()` lorsque l'utilisateur clique dessus ?

#### Réponses

- A `<a href="afficher_reponse()">Cliquez ici</a>`
- B `<button if_clicked="afficher_reponse()">Cliquez ici</button>`
- C `<button value="Cliquez ici"><a> afficher_reponse()</a></button>`
- D `<button onclick="afficher_reponse()">Cliquez ici</button>`

### Question D 2

Parmi les balises HTML ci-dessous quelle est celle qui permet à l'utilisateur de saisir son nom dans un formulaire en respectant la norme HTML ?

#### Réponses

- A `<select />`
- B `<form />`
- C `<input type="text" />`
- D `<input type="name" />`

### Question D 3

Un élément form (un formulaire) d'une page HTML contient un élément button de type submit. Un clic sur ce bouton :

#### Réponses

- A envoie les données du formulaire vers la page définie par l'attribut `action` de l'élément form
- B efface les données entrées par l'utilisateur dans le formulaire
- C envoie les données du formulaire vers la page définie par l'attribut `method` de l'élément form
- D ne fait rien du tout si un script Javascript n'est pas associé au bouton

### Question D 4

Que peut-on affirmer au sujet des formulaires de pages Web ?

#### Réponses

- A les variables d'une requête POST sont affichées dans l'URL
- B une requête GET peut être utilisée pour transmettre des données sensibles
- C une requête GET peut transmettre de grandes quantités de données
- D une requête POST peut utiliser des données de façon plus sécurisées

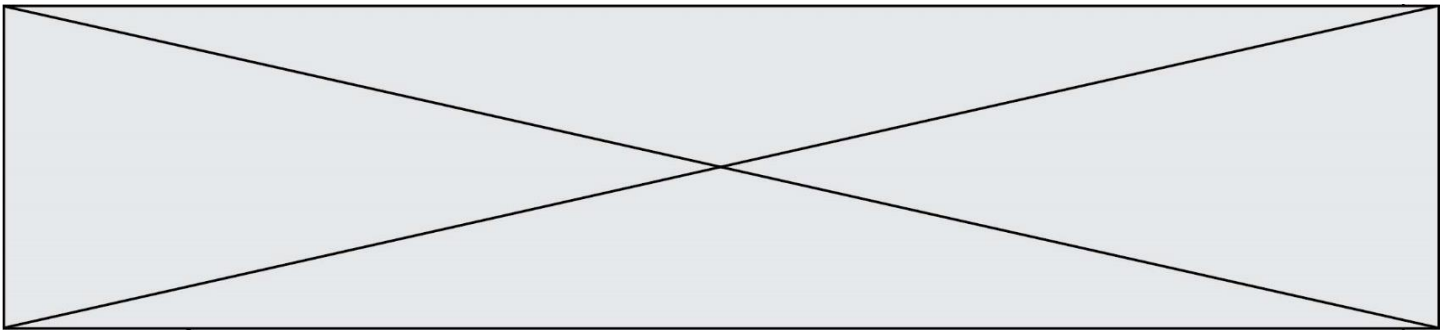
### Question D 5

En HTML, un formulaire commence par quelle balise ?

#### Réponses

- A `<form>`
- B `</form>`
- C `<input type="form">`
- D `<!--form-->`

### Question D 6



Parmi GET et POST, quelle méthode d'envoi de formulaire crypte les informations envoyées au serveur ?

**Réponses**

- A les deux : GET et POST
- B GET seulement
- C POST seulement
- D aucune des deux

Modèle CCYC : ©DNE

Nom de famille (naissance) :

(Suivi s'il y a lieu, du nom d'usage)

Prénom(s) :

N° candidat :  N° d'inscription :

(Les numéros figurent sur la convocation.)

Né(e) le :  /  /

 Liberté • Égalité • Fraternité  
RÉPUBLIQUE FRANÇAISE

1.1

## Thème E : architectures matérielles et systèmes d'exploitation

### Question E 1

Dans la console Linux, quelle commande faut-il exécuter pour obtenir le contenu du répertoire courant ?

#### Réponses

- A man pwd
- B cd pwd
- C ls -l
- D man ls -l

### Question E 2

On réalise une petite station météo.

Quel composant est un capteur ?

#### Réponses

- A l'afficheur LCD
- B l'écran de l'ordinateur
- C la LED
- D le thermomètre

### Question E 3

L'adresse IP du site `www.education.gouv.fr` est `185.75.143.24`.

Quel dispositif permet d'associer l'adresse IP et l'URL `www.education.gouv.fr` ?

#### Réponses

- A un routeur
- B un serveur DNS
- C un serveur de temps
- D un serveur Web

### Question E 4

On cherche à connaître l'itinéraire vers une destination sur un réseau. On utilisera la commande :

#### Réponses

- A ping
- B traceroute
- C ipconfig
- D arp

### Question E 5

Sous Linux, les droits d'accès à un fichier dont le propriétaire est Joseph sont les suivants : `-rwxr-xr--`.

Laquelle des affirmations suivantes est **fausse** ?

#### Réponses

- A Joseph a l'autorisation de lire ce fichier
- B les membres du groupe de Joseph ont l'autorisation de lire ce fichier
- C tous les utilisateurs ont l'autorisation de lire ce fichier
- D les membres du groupe de Joseph ont l'autorisation de modifier ce fichier



**Question E 6**

Lequel de ces systèmes d'exploitation est libre ?

**Réponses**

- A Linux
- B Windows
- C MacOS
- D iOS

Modèle CCYC : ©DNE

Nom de famille (naissance) :

(Suivi s'il y a lieu, du nom d'usage)

Prénom(s) :

N° candidat :  N° d'inscription :

(Les numéros figurent sur la convocation.)

Né(e) le :  /  /

 Liberté • Égalité • Fraternité  
RÉPUBLIQUE FRANÇAISE

1.1

## Thème F : langages et programmation

### Question F 1

La fonction suivante calcule la racine carrée du double d'un nombre flottant.

```
from math import sqrt

def racine_du_double(x):
    return sqrt(2*x)
```

Quelle est la précondition sur l'argument de cette fonction ?

#### Réponses

- A  $x < 0$
- B  $x \geq 0$
- C  $2 * x > 0$
- D  $\text{sqrt}(x) \geq 0$

### Question F 2

On définit la fonction :

```
def f(a,b):
    assert b!=0, 'le deuxième argument est nul'
    result = a/b
    return result
```

Qu'obtient-on en exécutant la commande  $r = f(4, 0)$  ?

#### Réponses

- A une erreur ZeroDivisionError: division by zero et l'arrêt de l'exécution
- B une erreur NameError: name 'b' is not defined et l'arrêt de l'exécution
- C une erreur AssertionError: le deuxième argument est nul et la variable r prend la valeur 0
- D une erreur AssertionError: le deuxième argument est nul et l'arrêt de l'exécution

### Question F 3

En voulant programmer une fonction qui calcule la valeur minimale d'une liste d'entiers, on a écrit :

```
def minimum(L):
    mini = 0
    for e in L:
        if e < mini:
            mini = e
    return mini
```

Cette fonction a été mal programmée. Pour quelle liste ne donnera-t-elle pas le résultat attendu, c'est-à-dire son minimum ?

#### Réponses

- A [-1, -8, 12, 2, 23]
- B [0, 18, 12, 2, 3]
- C [-1, -1, 12, 12, 23]
- D [1, 8, 12, 2, 23]

### Question F 4



Soit T un tableau de flottants, a et b deux entiers. On considère une fonction nommée somme renvoyant la somme des éléments du tableau d'indice compris entre a et b définie par :

```
def somme(T, a, b):  
    S = 0  
    for i in range(a, b+1) :  
        S = S + T[i]  
    return S
```

Quel ensemble de préconditions doit-on prévoir pour cette fonction ?

**Réponses**

- A a < b
- B a < longueur(T) et b < longueur(T)
- C a <= b < longueur(T)
- D a <= b < longueur(T) et T est un tableau trié

**Question F 5**

On exécute le code suivant

```
def calculPourcentage (prix, reduction):  
    assert reduction >= 0, 'la réduction doit être un nombre positif'  
    assert reduction < 100, 'la réduction doit être inférieure à 100'  
    assert prix > 0, 'le prix doit être un nombre strictement positif'  
    remise = (reduction*prix)/100  
    prix_remise = prix - remise  
    return prix_remise
```

Quelle est la valeur renvoyée par l'appel calcul(30,100) ?

**Réponses**

- A AssertionError: la réduction doit être un nombre positif
- B AssertionError: la réduction doit être inférieure à 100
- C AssertionError: le prix doit être un nombre strictement positif
- D 70

**Question F 6**

On définit deux fonctions :

```
def f(x):  
    y = 2*x + 1  
    return y  
  
def calcul(x):  
    y = x - 1  
    return f(y)
```

Quelle est la valeur renvoyée par l'appel calcul(5) ?

**Réponses**

- A 4
- B 9
- C 11
- D 19





## Thème G : algorithmique

### Question G 1

Une seule des affirmations suivantes est vraie :

#### Réponses

- A L'algorithme des k plus proches voisins a pour but de déterminer les k plus proches voisins d'une observation dans un ensemble de données.
- B L'algorithme des k plus proches voisins a pour but de déterminer la classe d'une observation à partir des classes de ses k plus proches voisins.
- C L'algorithme des k plus proches voisins a pour but de déterminer dans un ensemble de données le sous-ensemble à k éléments qui sont les plus proches les uns des autres.
- D L'algorithme des k plus proches voisins a pour but de déterminer les éléments d'un ensemble de données appartenant à une même classe.

### Question G 2

La fonction `mystere` suivante prend en argument un tableau d'entiers.

```
def mystere(t):  
    for i in range(len(t) - 1):  
        if t[i] != t[i+1] - 1:  
            return False  
    return True
```

À quelle condition la valeur renvoyée par la fonction est-elle True ?

#### Réponses

- A si le tableau passé en argument est une suite d'entiers consécutifs
- B si le tableau passé en argument est trié en ordre croissant
- C si le tableau passé en argument est trié en ordre décroissant
- D si le tableau passé en argument contient des entiers tous identiques

### Question G 3

Que renvoie la fonction suivante quand on l'appelle avec un nombre entier et une liste d'entiers ?

```
def mystere(n,L):  
    for x in L:  
        if n == x:  
            return True  
    return False
```

#### Réponses

- A une valeur booléenne indiquant si le nombre n est présent au moins une fois dans la liste L
- B une valeur booléenne indiquant si le nombre n est présent plusieurs fois dans la liste L
- C une valeur booléenne indiquant si le nombre n est le plus grand de la liste L
- D une valeur booléenne indiquant si le nombre n est le plus petit de la liste L

### Question G 4

Un algorithme de recherche dichotomique dans une liste triée de taille  $n$  nécessite, dans le pire des cas, exactement  $k$  comparaisons.

Combien cet algorithme va-t-il utiliser, dans le pire des cas, de comparaisons sur une liste de taille  $2n$  ?

