

Modèle CCYC : ©DNE

Nom de famille (naissance) :

(Suivi s'il y a lieu, du nom d'usage)

Prénom(s) :

N° candidat :

N° d'inscription :



(Les numéros figurent sur la convocation.)

Né(e) le :

1.1

## Évaluation

**CLASSE** : Première

**VOIE** :  Générale  Technologique  Toutes voies (LV)

**ENSEIGNEMENT** : spécialité Numérique et Sciences Informatiques (NSI)

**DURÉE DE L'ÉPREUVE** : 02 h 00

**Niveaux visés (LV)** : LVA LVB

**Axes de programme** :

**CALCULATRICE AUTORISÉE** :  Oui  Non

**DICTIONNAIRE AUTORISÉ** :  Oui  Non

Ce sujet contient des parties à rendre par le candidat avec sa copie. De ce fait, il ne peut être dupliqué et doit être imprimé pour chaque candidat afin d'assurer ensuite sa bonne numérisation.

Ce sujet intègre des éléments en couleur. S'il est choisi par l'équipe pédagogique, il est nécessaire que chaque élève dispose d'une impression en couleur.

Ce sujet contient des pièces jointes de type audio ou vidéo qu'il faudra télécharger et jouer le jour de l'épreuve.

**Nombre total de pages** : 18

L'épreuve consiste en 42 questions, rangées en 7 thèmes.

Pour chaque question, le candidat gagne 3 points s'il choisit la bonne réponse, perd 1 point s'il choisit une réponse fausse. S'il ne répond pas ou choisit plusieurs réponses, il ne gagne ni ne perd aucun point.

Le total sur chacun des 7 thèmes est ramené à 0 s'il est négatif.

La note finale s'obtient en divisant le total des points par 6,3 et en arrondissant à l'entier supérieur.

**Le candidat indique ses réponses aux questions en pages 3 et 4.**

**Seules les pages 1 à 4 sont rendues par le candidat à la fin de l'épreuve, pour être numérisées.**

Les questions figurent sur les pages suivantes.



Modèle CCYC : ©DNE

Nom de famille (naissance) :

(Suivi s'il y a lieu, du nom d'usage)

Prénom(s) :

N° candidat :

N° d'inscription :



Liberté • Égalité • Fraternité  
RÉPUBLIQUE FRANÇAISE

Né(e) le :

(Les numéros figurent sur la convocation.)

1.1

### Thème A : types de base

- Réponse à la question 1    A     B     C     D
- Réponse à la question 2    A     B     C     D
- Réponse à la question 3    A     B     C     D
- Réponse à la question 4    A     B     C     D
- Réponse à la question 5    A     B     C     D
- Réponse à la question 6    A     B     C     D

### Thème B : types construits

- Réponse à la question 1    A     B     C     D
- Réponse à la question 2    A     B     C     D
- Réponse à la question 3    A     B     C     D
- Réponse à la question 4    A     B     C     D
- Réponse à la question 5    A     B     C     D
- Réponse à la question 6    A     B     C     D

### Thème C : traitement de données en tables

- Réponse à la question 1    A     B     C     D
- Réponse à la question 2    A     B     C     D
- Réponse à la question 3    A     B     C     D
- Réponse à la question 4    A     B     C     D
- Réponse à la question 5    A     B     C     D
- Réponse à la question 6    A     B     C     D

### Thème D : interactions entre l'homme et la machine sur le Web

- Réponse à la question 1    A     B     C     D
- Réponse à la question 2    A     B     C     D
- Réponse à la question 3    A     B     C     D
- Réponse à la question 4    A     B     C     D
- Réponse à la question 5    A     B     C     D
- Réponse à la question 6    A     B     C     D



### **Thème E : architectures matérielles et systèmes d'exploitation**

Réponse à la question 1	A <input type="checkbox"/>	B <input type="checkbox"/>	C <input type="checkbox"/>	D <input type="checkbox"/>
Réponse à la question 2	A <input type="checkbox"/>	B <input type="checkbox"/>	C <input type="checkbox"/>	D <input type="checkbox"/>
Réponse à la question 3	A <input type="checkbox"/>	B <input type="checkbox"/>	C <input type="checkbox"/>	D <input type="checkbox"/>
Réponse à la question 4	A <input type="checkbox"/>	B <input type="checkbox"/>	C <input type="checkbox"/>	D <input type="checkbox"/>
Réponse à la question 5	A <input type="checkbox"/>	B <input type="checkbox"/>	C <input type="checkbox"/>	D <input type="checkbox"/>
Réponse à la question 6	A <input type="checkbox"/>	B <input type="checkbox"/>	C <input type="checkbox"/>	D <input type="checkbox"/>

### **Thème F : langages et programmation**

Réponse à la question 1	A <input type="checkbox"/>	B <input type="checkbox"/>	C <input type="checkbox"/>	D <input type="checkbox"/>
Réponse à la question 2	A <input type="checkbox"/>	B <input type="checkbox"/>	C <input type="checkbox"/>	D <input type="checkbox"/>
Réponse à la question 3	A <input type="checkbox"/>	B <input type="checkbox"/>	C <input type="checkbox"/>	D <input type="checkbox"/>
Réponse à la question 4	A <input type="checkbox"/>	B <input type="checkbox"/>	C <input type="checkbox"/>	D <input type="checkbox"/>
Réponse à la question 5	A <input type="checkbox"/>	B <input type="checkbox"/>	C <input type="checkbox"/>	D <input type="checkbox"/>
Réponse à la question 6	A <input type="checkbox"/>	B <input type="checkbox"/>	C <input type="checkbox"/>	D <input type="checkbox"/>

### **Thème G : algorithmique**

Réponse à la question 1	A <input type="checkbox"/>	B <input type="checkbox"/>	C <input type="checkbox"/>	D <input type="checkbox"/>
Réponse à la question 2	A <input type="checkbox"/>	B <input type="checkbox"/>	C <input type="checkbox"/>	D <input type="checkbox"/>
Réponse à la question 3	A <input type="checkbox"/>	B <input type="checkbox"/>	C <input type="checkbox"/>	D <input type="checkbox"/>
Réponse à la question 4	A <input type="checkbox"/>	B <input type="checkbox"/>	C <input type="checkbox"/>	D <input type="checkbox"/>
Réponse à la question 5	A <input type="checkbox"/>	B <input type="checkbox"/>	C <input type="checkbox"/>	D <input type="checkbox"/>
Réponse à la question 6	A <input type="checkbox"/>	B <input type="checkbox"/>	C <input type="checkbox"/>	D <input type="checkbox"/>

Modèle CCYC : ©DNE

Nom de famille (naissance) :

(Suivi s'il y a lieu, du nom d'usage)

Prénom(s) :

N° candidat :  N° d'inscription :

(Les numéros figurent sur la convocation.)

Né(e) le :  /  /



1.1

## Thème A : types de base

### Question A 1

L'écriture décimale du nombre  $1001\ 1101$  écrit sur 8 bits en complément à 2 est :

#### Réponses

- A -4
- B -29
- C -99
- D 157

### Question A 2

Si a vaut False et b vaut True, que vaut l'expression booléenne NOT(a AND b) ?

#### Réponses

- A 0
- B False
- C True
- D None

### Question A 3

Soit  $n$  l'entier positif dont l'écriture binaire est  $10001$ . Quelle est l'écriture binaire de l'entier  $2n$  ?

#### Réponses

- A 20002
- B 100010
- C 010001
- D 1000110001

### Question A 4

Le résultat de la soustraction en binaire  $101001 - 101$  est égal au nombre binaire :

#### Réponses

- A 100900
- B 101110
- C 100100
- D 100110

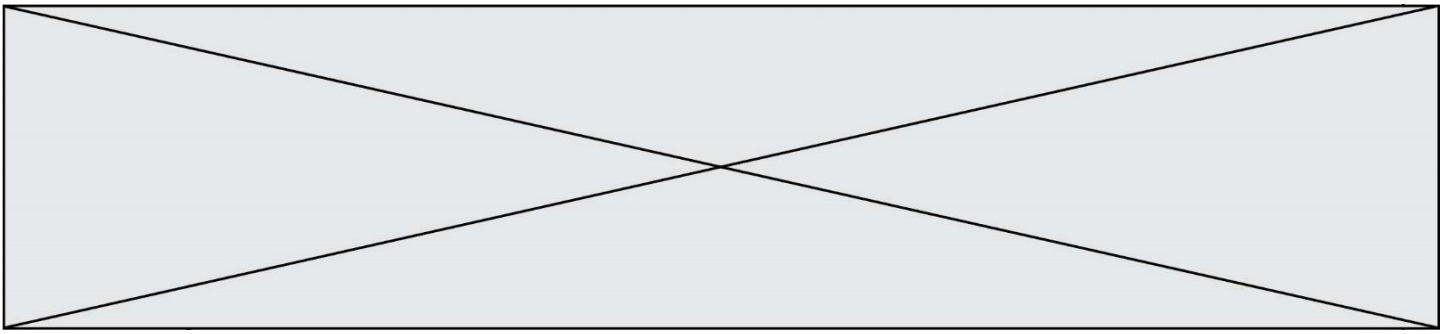
### Question A 5

Pour quelles valeurs booléennes des variables a, b et c l'expression (a or b) and (not c) a-t-elle pour valeur True ?

#### Réponses

- A a = True b = False c = True
- B a = True b = False c = False
- C a = False b = False c = True
- D a = False b = True c = True

### Question A 6



La variable  $x$  contient la valeur 3, la variable  $y$  contient la valeur 4.  
Quelle expression s'évalue en True parmi les quatre propositions suivantes ?

**Réponses**

- A  $x == 3$  or  $y == 5$
- B  $x == 3$  and  $y == 5$
- C  $x != 3$  or  $y == 5$
- D  $y < 4$

Modèle CCYC : ©DNE

Nom de famille (naissance) :

(Suivi s'il y a lieu, du nom d'usage)

Prénom(s) :

N° candidat :

N° d'inscription :



Liberté • Égalité • Fraternité  
RÉPUBLIQUE FRANÇAISE

Né(e) le :

(Les numéros figurent sur la convocation.)

1.1

## Thème B : types construits

### Question B 1

Quelle expression Python a pour valeur la liste [1, 3, 5, 7, 9, 11] ?

#### Réponses

- A [2\*i - 1 for i in range(6)]
- B [2\*i + 1 for i in range(6)]
- C [2\*i + 1 for i in range(5)]
- D [2\*i - 1 for i in range(7)]

### Question B 2

On définit tableau = [[1, 2, 3], [4, 5, 6], [7, 8, 9]]. Quelle est la valeur de tableau[2][1] ?

#### Réponses

- A 2
- B 4
- C 6
- D 8

### Question B 3

Quelle est la valeur de la variable r à la fin de l'exécution du script suivant ?

```
t = (10, 6, 1, 12, 15)
r = t[3] - t[1]
```

#### Réponses

- A -9
- B 2
- C 3
- D 6

### Question B 4

Que vaut l'expression [ 2\*k for k in range(5) ] ?

#### Réponses

- A [0, 2, 4, 6, 8]
- B [2, 4, 6, 8, 10]
- C [1, 2, 4, 8, 16]
- D [2, 4, 8, 16, 32]

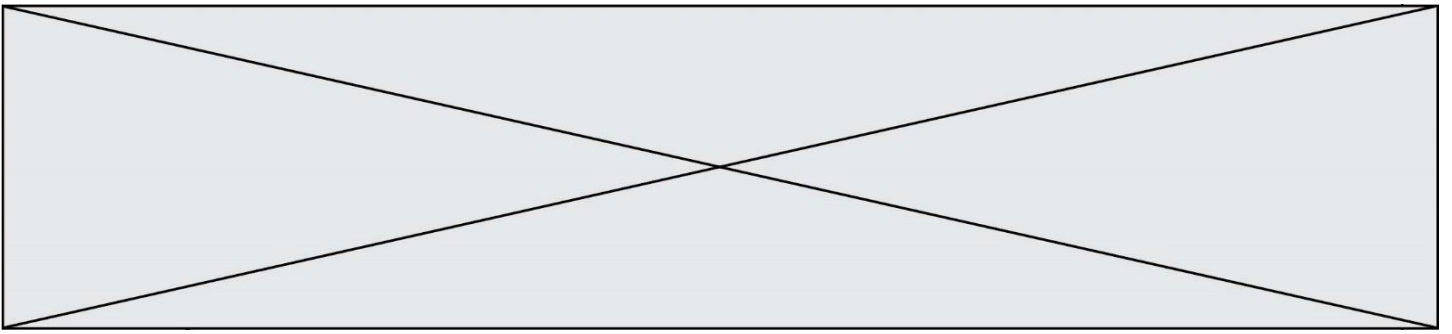
### Question B 5

On définit :

```
tab = [ ('Léa', 14), ('Guillaume', 12), ('Anthony', 16), ('Anne', 15) ]
```

Quelle est la valeur de l'expression [x[0] for x in tab if x[1]>=15] ?

#### Réponses



- A [('Anthony', 16), ('Anne', 15)]
- B ['Anthony', 'Anne']
- C [16, 15]
- D TypeError : 'tuple' object is not callable

**Question B 6**

On exécute le code suivant :

```
t = [1,2,3,4,5,6,7,8,9]
v = [c for c in t if c%3 == 0]
```

Quelle est la valeur de la variable v à la fin de cette exécution ?

**Réponses**

- A 18
- B [1,4,7]
- C [3,6,9]
- D [1,2,3,4,5,6,7,8,9]



Modèle CCYC : ©DNE

Nom de famille (naissance) :

(Suivi s'il y a lieu, du nom d'usage)

Prénom(s) :

N° candidat :  N° d'inscription :

(Les numéros figurent sur la convocation.)

Né(e) le :  /  /



1.1

## Thème C : traitement de données en tables

### Question C 1

Une table d'un fichier client contient le nom, le prénom et l'identifiant des clients sous la forme :

```
clients = [ ("Dupont", "Paul", 1),
            ("Durand", "Jacques", 2),
            ("Dutronc", "Jean", 3),
            ... ]
```

En supposant que plusieurs clients se prénomment Jean, que vaut la liste x après l'exécution du code suivant ?

```
x = []
for i in range(len(clients)):
    if clients[i][1] == "Jean":
        x = clients[i]
```

### Réponses

- A Une liste de tuples des noms, prénoms et numéros de tous les clients prénommés Jean
- B Une liste des numéros de tous les clients prénommés Jean
- C Un tuple avec le nom, prénom et numéro du premier client prénommé Jean
- D Un tuple avec le nom, prénom et numéro du dernier client prénommé Jean

### Question C 2

Laquelle de ces affirmations est vraie ?

### Réponses

- A on peut ouvrir un fichier CSV à l'aide d'un tableur
- B un fichier CSV permet de gérer l'apparence du code dans l'éditeur
- C un fichier CSV permet de gérer l'apparence d'une page HTML
- D un fichier CSV contient un programme à compiler

### Question C 3

Laquelle de ces listes de chaînes de caractères est triée en ordre croissant ?

### Réponses

- A ['Chat', 'Chien', 'Cheval', 'Cochon']
- B ['Chat', 'Cheval', 'Chien', 'Cochon']
- C ['Chien', 'Cheval', 'Cochon', 'Chat']
- D ['Cochon', 'Chien', 'Cheval', 'Chat']

### Question C 4

On considère la table suivante :

```
t = [ {'type': 'marteau', 'prix': 17, 'quantité': 32},
      {'type': 'scie', 'prix': 24, 'quantité': 3},
      {'type': 'tournevis', 'prix': 8, 'quantité': 45} ]
```

Quelle expression permet d'obtenir la quantité de scies ?

### Réponses

- A t[2]['quantité']
- B t[1]['quantité']
- C t['quantité'][1]



D `t['scies']['quantité']`

#### Question C 5

On exécute le script suivant :

```
notes = {"Paul": 12, "Jean": 16, "Clara": 14, "Aïssa": 18}
t = list(notes.keys())
```

Quelle est la valeur de `t` à la fin de cette exécution ?

#### Réponses

- A `Paul`
- B `["Paul", "Jean", "Clara", "Aïssa"]`
- C `[12, 16, 14, 18]`
- D `[ "Paul": 12, "Jean": 16, "Clara": 14, "Aïssa": 18 ]`

#### Question C 6

Soit le tableau défini de la manière suivante : `tableau = [[1,3,4],[2,7,8],[9,10,6],[12,11,5]]`

On souhaite accéder à la valeur 12, on écrit pour cela :

#### Réponses

- A `tableau[4][1]`
- B `tableau[1][4]`
- C `tableau[3][0]`
- D `tableau[0][3]`

Modèle CCYC : ©DNE

Nom de famille (naissance) :

(Suivi s'il y a lieu, du nom d'usage)

Prénom(s) :

N° candidat :  N° d'inscription :

(Les numéros figurent sur la convocation.)

Né(e) le :  /  /



1.1

## Thème D : interactions entre l'homme et la machine sur le Web

### Question D 1

Un internaute clique sur un lien qui envoie la requête HTTP suivante à un serveur :

http://jaimelaneige.com/ma\_planche/traitement.php?nom=Snow&prenom=Jon

Quelle est l'adresse du serveur ?

### Réponses

- A jaimelaneige
- B jaimelaneige.com
- C jaimelaneige.com/ma\_planche
- D jaimelaneige.com/ma\_planche/traitement.php

### Question D 2

Compléter le script ci-dessous :

```
<!DOCTYPE html>
<html>
  <head>
    <.....>Ma page HTML</.....>
  </head>
</html>
```

### Réponses

- A href
- B title
- C html
- D aucune des propositions précédentes

### Question D 3

Une page Web contient un formulaire dont le code HTML est le suivant :

```
<form action="/action_page.php" method="post">
  First name : <input type="text" name = "fname"><br>
  Last name : <input type="text" name = "lname"><br>
  <input type="submit" value="Submit">
</form>
```

Que peut-on dire des informations transmises dans ce formulaire ?

### Réponses

- A elles seront enregistrées dans l'historique du navigateur
- B elles seront enregistrées dans le cache du navigateur
- C elles ne devront pas dépasser une limite en nombre de caractères transmis
- D elles ne seront pas visibles dans la barre du navigateur

### Question D 4



Dans un fichier HTML nommé `reservation.html`, on a défini au sein d'une balise `<script>` la fonction `confirmer`. Ce fichier contient aussi la ligne suivante :

```
<button onclick="confirmer();">Annuler la réservation</button>
```

On affiche cette page dans un navigateur Web (pour lequel JavaScript est activé).  
En cliquant sur le bouton « Annuler la réservation » :

**Réponses**

- A Le navigateur va nécessairement générer une requête HTTP à destination du serveur pour confirmer cette action.
- B Le navigateur ne va en aucun cas générer une requête HTTP à destination du serveur pour confirmer cette action.
- C Le navigateur va nécessairement déclencher un appel à la fonction `confirmer`.
- D Le navigateur ne va en aucun cas déclencher un appel à la fonction `confirmer`.

**Question D 5**

Parmi GET et POST, quelle méthode d'envoi de formulaire crypte les informations envoyées au serveur ?

**Réponses**

- A les deux : GET et POST
- B GET seulement
- C POST seulement
- D aucune des deux

**Question D 6**

Parmi les langages suivants, lequel est exécuté sur le serveur lors de la consultation d'une page Web ?

**Réponses**

- A JavaScript
- B HTML
- C CSS
- D PHP

Modèle CCYC : ©DNE

Nom de famille (naissance) :

(Suivi s'il y a lieu, du nom d'usage)

Prénom(s) :

N° candidat :  N° d'inscription :

(Les numéros figurent sur la convocation.)

Né(e) le :  /  /



1.1

## Thème E : architectures matérielles et systèmes d'exploitation

### Question E 1

Parmi les éléments suivants, lequel est un capteur ?

#### Réponses

- A une diode électroluminescente
- B un moteur
- C un accéléromètre
- D un afficheur à cristaux liquides

### Question E 2

On réalise une petite station météo.  
Quel composant est un capteur ?

#### Réponses

- A l'afficheur LCD
- B l'écran de l'ordinateur
- C la LED
- D le thermomètre

### Question E 3

Parmi les systèmes d'exploitation suivants, lequel est libre ?

#### Réponses

- A Mac OS
- B iOS
- C Microsoft Windows
- D GNU/Linux

### Question E 4

Lequel de ces systèmes d'exploitation est sous licence propriétaire ?

#### Réponses

- A Android
- B Linux
- C Windows
- D Ubuntu

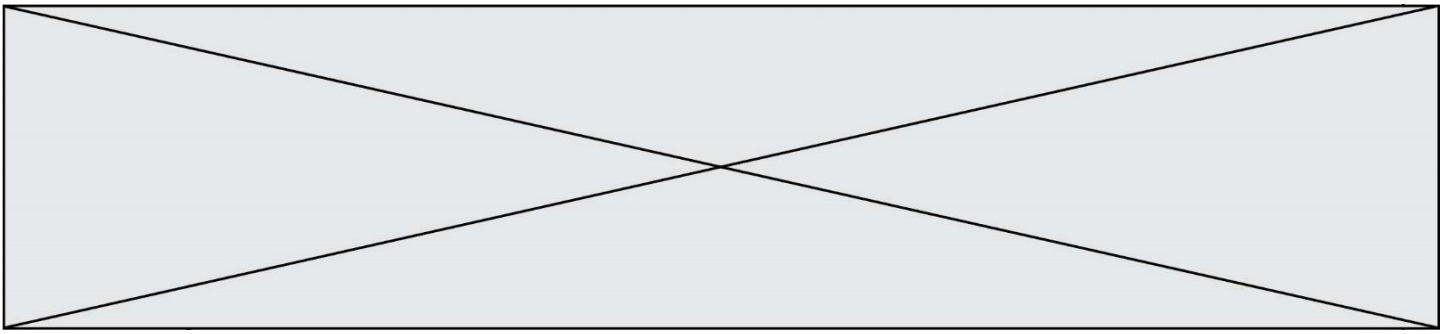
### Question E 5

À partir du répertoire ~/Perso/Doc quelle commande permet de rejoindre le répertoire ~/Public ?

#### Réponses

- A cd ./Public
- B cd ../Public
- C cd ../../Public
- D cd ../.././Public

### Question E 6



Une et une seule de ces affirmations est **fausse**. Laquelle ?

**Réponses**

- A Un système d'exploitation libre est la plupart du temps gratuit
- B Je peux contribuer à un système d'exploitation libre
- C Il est interdit d'étudier un système d'exploitation propriétaire
- D Un système d'exploitation propriétaire est plus sécurisé

Modèle CCYC : ©DNE

Nom de famille (naissance) :


(Suivi s'il y a lieu, du nom d'usage)

Prénom(s) :

N° candidat :  N° d'inscription :

(Les numéros figurent sur la convocation.)

Né(e) le :  /  /



1.1

## Thème F : langages et programmation

### Question F 1

Dans le programme JavaScript suivant, quelle est la notation qui délimite le bloc d'instructions exécuté à chaque passage dans la boucle while ?

```

i = 0
while (i < 10) {
    alert(i)
    i = i + 1
}
alert("Fin")

```

#### Réponses

- A le fait que les instructions soient encadrées entre { et }
- B le fait que les instructions soient indentées de 4 caractères comme en Python
- C le fait que les instructions suivent le mot clé while
- D le fait que les instructions suivent la parenthèse )

### Question F 2

On souhaite écrire une fonction qui renvoie le maximum d'une liste d'entiers :

```

def maximum(L):
    m = L[0]
    for i in range(1, len(L)):
        if .....:
            m = L[i]
    return m

```

Par quoi faut-il remplacer les pointillés pour que cette fonction produise bien le résultat attendu ?

#### Réponses

- A  $i > m$
- B  $L[i] > m$
- C  $L[i] > L[i-1]$
- D  $L[i] > L[i+1]$

### Question F 3

Quelle est la valeur de la variable b à la fin de l'exécution du script suivant ?

```

a = 2
b = 5
if a > 8:
    b = 10
elif a > 6:
    b = 3

```

#### Réponses

- A 3
- B 5
- C 6
- D 10

### Question F 4



La fonction suivante ne calcule pas toujours correctement le maximum des deux nombres donnés en argument. On rappelle que  $\text{abs}(z)$  calcule la valeur absolue du nombre  $z$ .

```
def maxi(x,y) :  
    m = (x-y+abs(x+y))/2  
    return m
```

Parmi les tests suivants, lequel va détecter l'erreur ?

#### Réponses

- A maxi(3,-2)
- B maxi(2,2)
- C maxi(3,2)
- D maxi(2,3)

#### Question F 5

On construit une liste L de la façon suivante :

```
L = []  
for i in range(1, 11, 2):  
    L.append(5*i)
```

et on obtient ainsi la liste [5, 15, 25, 35, 45].

On pourrait aussi procéder de la façon suivante :

```
L = []  
..... # ligne 1  
while i < 11:  
    L.append(5*i)  
..... # ligne 2
```

Que faudrait-il écrire en ligne 1 et en ligne 2 pour obtenir le même résultat ?

#### Réponses

- A  $i = 0$  en ligne 1, et  $i = i + 1$  en ligne 2
- B  $i = 0$  en ligne 1, et  $i = i + 2$  en ligne 2
- C  $i = 1$  en ligne 1, et  $i = i + 1$  en ligne 2
- D  $i = 1$  en ligne 1, et  $i = i + 2$  en ligne 2

#### Question F 6

Quelle est la valeur de la variable b à la fin de l'exécution du script suivant ?

```
a = 3  
b = 6  
if a > 5 or b != 3:  
    b = 4  
else:  
    b = 2
```

#### Réponses

- A 2
- B 4
- C 5
- D 6



Modèle CCYC : ©DNE

Nom de famille (naissance) :

(Suivi s'il y a lieu, du nom d'usage)

Prénom(s) :

N° candidat :  N° d'inscription :

(Les numéros figurent sur la convocation.)

Né(e) le :  /  /



1.1

## Thème G : algorithmique

### Question G 1

Un algorithme de tri d'une liste d'entiers est implémenté de la façon suivante :

```
def trier(L) :
    for i in range(len(L)):
        indice_min = i
        for j in range(i+1, len(L)):
            if L[j] < L[indice_min] :
                indice_min = j
        L[i], L[indice_min] = L[indice_min], L[i]
        # ligne de commentaire où une des 4 propositions est vraie
    return L
```

Parmi les propositions suivantes, laquelle reste vraie à chaque itération de la boucle, à l'endroit indiqué ci-dessus en commentaire ?

#### Réponses

- A la sous-liste  $L[0:i+1]$  contient les  $i$  plus grandes valeurs de  $L$  triées par ordre décroissant
- B la sous-liste  $L[0:i+1]$  contient les  $i$  plus grandes valeurs de  $L$  triées par ordre croissant
- C la sous-liste  $L[0:i+1]$  contient les  $i$  plus petites valeurs de  $L$  triées par ordre décroissant
- D la sous-liste  $L[0:i+1]$  contient les  $i$  plus petites valeurs de  $L$  triées par ordre croissant

### Question G 2

On exécute le script suivant :

```
compt = 0
resultat = 1
while compt !=7 :
    resultat = resultat * compt
    compt = compt + 1
```

Laquelle de ces affirmations est vraie ?

#### Réponses

- A Le script ne s'arrête pas
- B Le script entre 7 fois dans la boucle et à la fin de son exécution, resultat vaut 0
- C Le script entre 7 fois dans la boucle et à la fin de son exécution, resultat vaut 720
- D Le script entre 6 fois dans la boucle et à la fin de son exécution, resultat vaut 0

### Question G 3

Qu'effectue-t-on en lançant la commande suivante dans un terminal Linux :

```
mv /etc/professeur/fichier.conf /home/nsi/fichier.conf
```

#### Réponses

- A un déplacement de fichier
- B une copie de fichier
- C un renommage de fichier
- D un changement de répertoire

### Question G 4



Qu'affiche le programme suivant :

```
a = 3
b = 4
if a > b and a == 3:
    print('vert')
if a > b and b == 4:
    print('rouge')
if a == 4 or b > a:
    print('bleu')
if a == 3 or a < b:
    print('jaune')
```

**Réponses**

- A vert  
rouge
- B bleu  
jaune
- C bleu
- D vert  
Jaune

**Question G 5**

Quelle est la valeur de element à la fin de l'exécution du code suivant :

```
L = [1,2,3,4,1,2,3,4,0,2]

element = L[0]
for k in L:
    if k > element:
        element = k
```

**Réponses**

- A 0
- B 1
- C 4
- D 10

**Question G 6**

Un algorithme est dit glouton si :

**Réponses**

- A Il consomme énormément de mémoire
- B Il contient de nombreuses lignes de code
- C Il s'inspire de la méthode de John Elwood Glouton
- D Il fait à chaque étape le choix localement optimum