

Modèle CCYC : ©DNE

Nom de famille (naissance) :

(Suivi s'il y a lieu, du nom d'usage)

Prénom(s) :

N° candidat :

N° d'inscription :



(Les numéros figurent sur la convocation.)

Né(e) le :

1.1

## Évaluation

**CLASSE** : Première

**VOIE** :  Générale  Technologique  Toutes voies (LV)

**ENSEIGNEMENT** : spécialité Numérique et Sciences Informatiques (NSI)

**DURÉE DE L'ÉPREUVE** : 02 h 00

**Niveaux visés (LV)** : LVA                      LVB

**Axes de programme** :

**CALCULATRICE AUTORISÉE** :  Oui  Non

**DICTIONNAIRE AUTORISÉ** :     Oui  Non

Ce sujet contient des parties à rendre par le candidat avec sa copie. De ce fait, il ne peut être dupliqué et doit être imprimé pour chaque candidat afin d'assurer ensuite sa bonne numérisation.

Ce sujet intègre des éléments en couleur. S'il est choisi par l'équipe pédagogique, il est nécessaire que chaque élève dispose d'une impression en couleur.

Ce sujet contient des pièces jointes de type audio ou vidéo qu'il faudra télécharger et jouer le jour de l'épreuve.

**Nombre total de pages** : 18

L'épreuve consiste en 42 questions, rangées en 7 thèmes.

Pour chaque question, le candidat gagne 3 points s'il choisit la bonne réponse, perd 1 point s'il choisit une réponse fausse. S'il ne répond pas ou choisit plusieurs réponses, il ne gagne ni ne perd aucun point.

Le total sur chacun des 7 thèmes est ramené à 0 s'il est négatif.

La note finale s'obtient en divisant le total des points par 6,3 et en arrondissant à l'entier supérieur.

**Le candidat indique ses réponses aux questions en pages 3 et 4.**

**Seules les pages 1 à 4 sont rendues par le candidat à la fin de l'épreuve, pour être numérisées.**

Les questions figurent sur les pages suivantes.



Modèle CCYC : ©DNE

Nom de famille (naissance) :

(Suivi s'il y a lieu, du nom d'usage)

Prénom(s) :

N° candidat :

N° d'inscription :



Liberté • Égalité • Fraternité  
RÉPUBLIQUE FRANÇAISE

(Les numéros figurent sur la convocation.)

Né(e) le :

1.1

### Thème A : types de base

- Réponse à la question 1    A     B     C     D   
Réponse à la question 2    A     B     C     D   
Réponse à la question 3    A     B     C     D   
Réponse à la question 4    A     B     C     D   
Réponse à la question 5    A     B     C     D   
Réponse à la question 6    A     B     C     D

### Thème B : types construits

- Réponse à la question 1    A     B     C     D   
Réponse à la question 2    A     B     C     D   
Réponse à la question 3    A     B     C     D   
Réponse à la question 4    A     B     C     D   
Réponse à la question 5    A     B     C     D   
Réponse à la question 6    A     B     C     D

### Thème C : traitement de données en tables

- Réponse à la question 1    A     B     C     D   
Réponse à la question 2    A     B     C     D   
Réponse à la question 3    A     B     C     D   
Réponse à la question 4    A     B     C     D   
Réponse à la question 5    A     B     C     D   
Réponse à la question 6    A     B     C     D

### Thème D : interactions entre l'homme et la machine sur le Web

- Réponse à la question 1    A     B     C     D   
Réponse à la question 2    A     B     C     D   
Réponse à la question 3    A     B     C     D   
Réponse à la question 4    A     B     C     D   
Réponse à la question 5    A     B     C     D   
Réponse à la question 6    A     B     C     D



### **Thème E : architectures matérielles et systèmes d'exploitation**

Réponse à la question 1	A <input type="checkbox"/>	B <input type="checkbox"/>	C <input type="checkbox"/>	D <input type="checkbox"/>
Réponse à la question 2	A <input type="checkbox"/>	B <input type="checkbox"/>	C <input type="checkbox"/>	D <input type="checkbox"/>
Réponse à la question 3	A <input type="checkbox"/>	B <input type="checkbox"/>	C <input type="checkbox"/>	D <input type="checkbox"/>
Réponse à la question 4	A <input type="checkbox"/>	B <input type="checkbox"/>	C <input type="checkbox"/>	D <input type="checkbox"/>
Réponse à la question 5	A <input type="checkbox"/>	B <input type="checkbox"/>	C <input type="checkbox"/>	D <input type="checkbox"/>
Réponse à la question 6	A <input type="checkbox"/>	B <input type="checkbox"/>	C <input type="checkbox"/>	D <input type="checkbox"/>

### **Thème F : langages et programmation**

Réponse à la question 1	A <input type="checkbox"/>	B <input type="checkbox"/>	C <input type="checkbox"/>	D <input type="checkbox"/>
Réponse à la question 2	A <input type="checkbox"/>	B <input type="checkbox"/>	C <input type="checkbox"/>	D <input type="checkbox"/>
Réponse à la question 3	A <input type="checkbox"/>	B <input type="checkbox"/>	C <input type="checkbox"/>	D <input type="checkbox"/>
Réponse à la question 4	A <input type="checkbox"/>	B <input type="checkbox"/>	C <input type="checkbox"/>	D <input type="checkbox"/>
Réponse à la question 5	A <input type="checkbox"/>	B <input type="checkbox"/>	C <input type="checkbox"/>	D <input type="checkbox"/>
Réponse à la question 6	A <input type="checkbox"/>	B <input type="checkbox"/>	C <input type="checkbox"/>	D <input type="checkbox"/>

### **Thème G : algorithmique**

Réponse à la question 1	A <input type="checkbox"/>	B <input type="checkbox"/>	C <input type="checkbox"/>	D <input type="checkbox"/>
Réponse à la question 2	A <input type="checkbox"/>	B <input type="checkbox"/>	C <input type="checkbox"/>	D <input type="checkbox"/>
Réponse à la question 3	A <input type="checkbox"/>	B <input type="checkbox"/>	C <input type="checkbox"/>	D <input type="checkbox"/>
Réponse à la question 4	A <input type="checkbox"/>	B <input type="checkbox"/>	C <input type="checkbox"/>	D <input type="checkbox"/>
Réponse à la question 5	A <input type="checkbox"/>	B <input type="checkbox"/>	C <input type="checkbox"/>	D <input type="checkbox"/>
Réponse à la question 6	A <input type="checkbox"/>	B <input type="checkbox"/>	C <input type="checkbox"/>	D <input type="checkbox"/>

Modèle CCYC : ©DNE

Nom de famille (naissance) :

(Suivi s'il y a lieu, du nom d'usage)

Prénom(s) :

N° candidat :  N° d'inscription :

(Les numéros figurent sur la convocation.)

Né(e) le :  /  /

 RÉPUBLIQUE FRANÇAISE

1.1

## Thème A : types de base

### Question A 1

Combien de bits sont nécessaires pour représenter le nombre 15 en binaire ?

#### Réponses

- A 2
- B 3
- C 4
- D 5

### Question A 2

On considère deux entiers positifs codés sur 8 bits.

Quel est au maximum le nombre de bits nécessaire pour coder le produit de ces deux entiers ?

#### Réponses

- A 8
- B 16
- C 32
- D 64

### Question A 3

Laquelle de ces affirmations concernant le codage UTF-8 des caractères est vraie ?

#### Réponses

- A le codage UTF-8 est sur 7 bits
- B le codage UTF-8 est sur 8 bits
- C le codage UTF-8 est sur 1 à 4 octets
- D le codage UTF-8 est sur 8 octets

### Question A 4

Quelle est l'écriture binaire sur 8 bits en complément à deux de l'entier négatif  $-108$  ?

#### Réponses

- A 1000 1000
- B 0110 1100
- C 1001 0100
- D 1110 1100

### Question A 5

La variable  $x$  contient la valeur 3, la variable  $y$  contient la valeur 4.

Quelle expression s'évalue en True parmi les quatre propositions suivantes ?

#### Réponses



- A  $x == 3$  or  $y == 5$
- B  $x == 3$  and  $y == 5$
- C  $x != 3$  or  $y == 5$
- D  $y < 4$

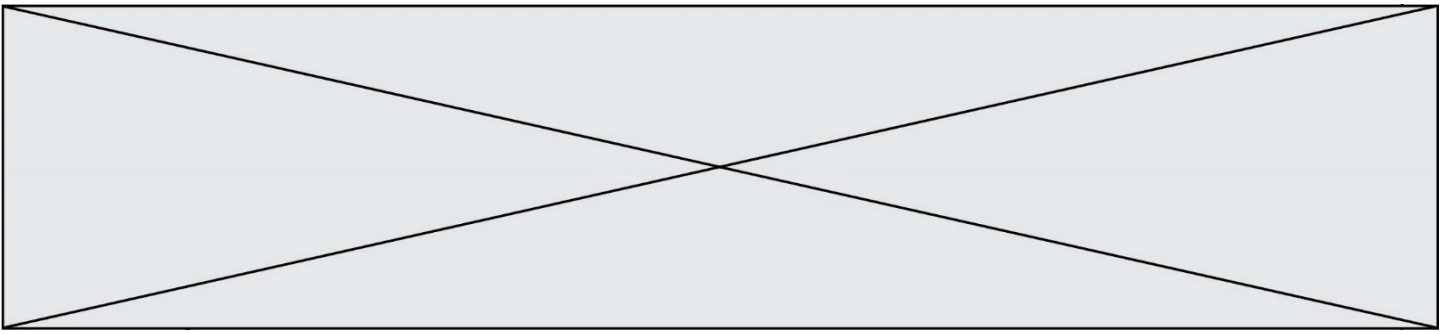
**Question A 6**

Quel est le nombre minimal de bits nécessaire pour représenter l'entier positif 79 en binaire ?

**Réponses**

- A 2
- B 6
- C 7
- D 8





Quel est le résultat de l'évaluation de l'expression Python suivante ?

```
[ n * n for n in range(10) ]
```

**Réponses**

- A [0, 1, 4, 9, 16, 25, 36, 49, 64, 81]
- B [0, 1, 4, 9, 16, 25, 36, 49, 64, 81, 100]
- C [0, 2, 4, 8, 16, 32, 64, 128, 256, 512]
- D [0, 2, 4, 8, 16, 32, 64, 128, 256, 512, 1024]

**Question B 6**

On définit la variable suivante : `citation = "Les nombres gouvernent le monde"`.  
Quelle est la valeur de l'expression `citation[5]+citation[6]` ?

**Réponses**

- A "om"
- B "ombres"
- C "no"
- D `citation[11]`



Modèle CCYC : ©DNE

Nom de famille (naissance) :

(Suivi s'il y a lieu, du nom d'usage)

Prénom(s) :

N° candidat :  N° d'inscription :

(Les numéros figurent sur la convocation.)

Né(e) le :  /  /



1.1

## Thème C : traitement de données en tables

### Question C 1

Laquelle de ces affirmations est vraie ?

#### Réponses

- A on ne peut accéder au contenu d'un fichier CSV que par l'intermédiaire d'un programme Python
- B CSV est un format de chiffrement des données
- C le format CSV a été conçu pour assurer la confidentialité d'une partie du code d'un programme
- D les fichiers CSV sont composés de données séparées par des caractères comme des virgules

### Question C 2

Dans la plupart des fichiers CSV, que contient la première ligne ?

#### Réponses

- A des notes concernant la table de données
- B les sources des données
- C les descripteurs des champs de la table de données
- D l'auteur de la table de données

### Question C 3

On définit :

```
T = [ {'fruit': 'banane', 'nombre': 25}, {'fruit': 'orange', 'nombre': 124},
      {'fruit': 'pomme', 'nombre': 75}, {'fruit': 'kiwi', 'nombre': 51} ]
```

Quelle expression a pour valeur le nombre de pommes ?

#### Réponses

- A T[2]['nombre']
- B T[2, 'nombre']
- C T[3]['nombre']
- D T[3, 'nombre']

### Question C 4

Parmi les propositions, laquelle est le tableau en compréhension des carrés de 0 à 9 ?

#### Réponses

- A (i\*i for i in range(10))
- B [i\*i for k in range(10)]
- C [i\*i] for i in range(10)
- D [i\*i for i in range(10)]

### Question C 5



Laquelle de ces listes de chaînes de caractères est triée en ordre croissant ?

**Réponses**

- A ['Chat', 'Chien', 'Cheval', 'Cochon']
- B ['Chat', 'Cheval', 'Chien', 'Cochon']
- C ['Chien', 'Cheval', 'Cochon', 'Chat']
- D ['Cochon', 'Chien', 'Cheval', 'Chat']

**Question C 6**

On exécute le script suivant :

```
asso = []
L = [ ['marc', 'marie'], ['marie', 'jean'], ['pau', 'marie'], ['marie', 'marie'],
      ['marc', 'anne'] ]
for c in L :
    if c[1]=='marie':
        asso.append(c[0])
```

Que vaut asso à la fin de l'exécution ?

**Réponses**

- A ['marc', 'jean', 'paul']
- B [['marc', 'marie'], ['paul', 'marie'], ['marie', 'marie']]
- C ['marc', 'paul', 'marie']
- D ['marie', 'anne']

Modèle CCYC : ©DNE

Nom de famille (naissance) :


(Suivi s'il y a lieu, du nom d'usage)

Prénom(s) :

N° candidat :  N° d'inscription :

(Les numéros figurent sur la convocation.)

Né(e) le :  /  /



1.1

## Thème D : interactions entre l'homme et la machine sur le Web

### Question D 1

On souhaite qu'un menu apparaisse à chaque fois que l'utilisateur passe sa souris sur l'image de bannière du site. L'attribut de la balise `img` dans lequel on doit mettre un code Javascript à cet effet est :

#### Réponses

- A onclick
- B src
- C alt
- D onmouseover

### Question D 2

Parmi les couples de balises suivants, lequel permet de créer un formulaire ?

#### Réponses

- A `<body>`      `</body>`
- B `<html>`        `</html>`
- C `<div>`          `</div>`
- D `<form>`         `</form>`

### Question D 3

Si un utilisateur doit saisir des données sensibles (mot de passe, numéro de carte bancaire...) dans le formulaire d'une page HTML, quel est l'entête de formulaire le plus approprié parmi les quatre propositions suivantes ?

#### Réponses

- A `<form method="formulaire.php" action="submit">`
- B `<form method="secure" action=onclick(>`
- C `<form method="get" action="arret.php">`
- D `<form method="post" action="arret.php">`

### Question D 4

Quelle méthode est utilisée via une requête HTTP pour envoyer une image via un formulaire HTML ?

#### Réponses

- A HEAD
- B PUT
- C POST
- D GET

### Question D 5

Parmi les éléments suivants, lequel est un protocole ?

#### Réponses

- A GET
- B POST
- C HTTP
- D HTML

### Question D 6



Un navigateur affiche la page HTML suivante :

```
<html lang="fr">
<head>
  <meta charset="utf-8">
  <link rel="stylesheet" href="style.css">
  <title>Un bouton</title>
</head>
<body>
  <button onclick="maFonction()">Cliquer ici</button>
</body>
<script src="script.js"></script>
</html>
```

Lorsque l'on clique sur le bouton, l'action déclenchée `maFonction()` est définie :

#### Réponses

- A dans le fichier HTML seul
- B dans le fichier `style.css`
- C dans une bibliothèque prédéfinie du navigateur
- D dans le fichier `script.js`

Modèle CCYC : ©DNE

Nom de famille (naissance) :

(Suivi s'il y a lieu, du nom d'usage)

Prénom(s) :

N° candidat :  N° d'inscription :

(Les numéros figurent sur la convocation.)

Né(e) le :  /  /

 Liberté • Égalité • Fraternité  
RÉPUBLIQUE FRANÇAISE

1.1

## Thème E : architectures matérielles et systèmes d'exploitation

### Question E 1

On a exécuté la commande `ls -l` et obtenu l'affichage suivant :

```
total 0
-rw-rw-rw- 1 etudiant etudiant 15 Jul 2 13:29 exercice
drwxrwxrwx 1 etudiant etudiant 512 Jul 2 13:37 seances
```

Que permettent d'affirmer les informations obtenues ?

#### Réponses

- A exercice et seances sont deux fichiers « ordinaires »
- B exercice est un fichier « ordinaire » et seances est un répertoire
- C exercice et seances sont deux répertoires
- D exercice est un répertoire et seances est un fichier « ordinaire »

### Question E 2

Que peut-on dire du système de fichiers, suite à l'exécution des commandes suivantes ?

```
% ls
entier.py flottant.py readme.md
% mkdir foo
% mv *.py foo
```

#### Réponses

- A les fichiers `entier.py`, `flottant.py`, et `foo` ont été déplacés dans le répertoire de l'utilisateur
- B l'utilisateur `foo` est propriétaire des fichiers `entier.py` et `flottant.py`
- C le répertoire `foo` contient le résultat de l'exécution des deux fichiers `entier.py` et `flottant.py`
- D le répertoire `foo` contient deux fichiers d'extension `.py`

### Question E 3

Quelle commande du shell Linux permet de modifier les autorisations d'accès à un fichier ?

#### Réponses

- A `chmod`
- B `chown`
- C `chgrp`
- D `dir`

### Question E 4

Dans un établissement scolaire, tous les ordinateurs sont reliés au réseau local par l'intermédiaire de câbles Ethernet ; il n'existe pas de liaisons sans fil. Dans chaque salle d'ordinateurs, les machines sont reliées à un commutateur. Chaque commutateur est relié par un câble jusqu'à la salle où se situe le serveur contrôleur de domaine et la passerelle internet (routeur).

En début de séance, aucune personne de votre classe n'arrive à se connecter. Le même message d'erreur s'affiche « Aucun serveur d'authentification n'est joignable sur le réseau. » Parmi ces quatre propositions, laquelle est la plus vraisemblable ?

#### Réponses

- A Un de vos camarades a débranché accidentellement le câble Ethernet de votre machine.



- B Le câble qui relie le serveur et la passerelle a été débranché.
- C Le commutateur de la salle est indisponible (il a été débranché ou est en panne).
- D La passerelle internet de l'établissement est indisponible (elle a été débranchée ou est en panne).

**Question E 5**

Dans la console Linux, quelle commande faut-il exécuter pour obtenir le contenu du répertoire courant ?

**Réponses**

- A `man pwd`
- B `cd pwd`
- C `ls -l`
- D `man ls -l`

**Question E 6**

Parmi les éléments suivants, lequel n'est pas un capteur ?

**Réponses**

- A un haut-parleur
- B une caméra
- C un écran tactile
- D un microphone

Modèle CCYC : ©DNE

Nom de famille (naissance) :

(Suivi s'il y a lieu, du nom d'usage)

Prénom(s) :

N° candidat :

N° d'inscription :



Liberté • Égalité • Fraternité  
RÉPUBLIQUE FRANÇAISE

Né(e) le :

(Les numéros figurent sur la convocation.)

1.1

## Thème F : langages et programmation

### Question F 1

On exécute le script suivant :

```
def calcul(a,b):  
    a = a + 2  
    b = b + 5  
    c = a + b  
    return c
```

```
a,b = 3,5  
calcul(a,b)
```

À la fin de cette exécution :

### Réponses

- A a vaut 3, b vaut 5 et c vaut 15
- B a vaut 3, b vaut 5 et c n'est pas défini
- C a vaut 5, b vaut 10 et c vaut 15
- D a vaut 5, b vaut 10 et c n'est pas défini

### Question F 2

Quelle est la valeur de la variable n à la fin de l'exécution du script ci-dessous ?

```
n = 1  
for i in range(4):  
    n = n + 2
```

### Réponses

- A 1
- B 8
- C 9
- D 18

### Question F 3

On définit la fonction suivante :

```
def f(n):  
    c = 0  
    while n > 0:  
        c = c + 1  
        n = n // 2  
    return c
```

Quel est la valeur renvoyée par l'appel f(35) ?

### Réponses

- A 1
- B 5
- C 6
- D 7



#### Question F 4

On souhaite échanger les contenus de deux variables entières a et b sans utiliser de variable auxiliaire en écrivant le code suivant :

```
a = a - b
b = a + b
a = .....
```

Que peut-on écrire à la place des pointillés pour réaliser cet échange ?

#### Réponses

- A a - b
- B a + b
- C b - a
- D - a - b

#### Question F 5

On définit deux fonctions :

```
def f(x):
    y = 2*x + 1
    return y

def calcul(x):
    y = x - 1
    return f(y)
```

Quelle est la valeur renvoyée par l'appel calcul(5) ?

#### Réponses

- A 4
- B 9
- C 11
- D 19

#### Question F 6

La fonction suivante calcule la racine carrée du double d'un nombre flottant.

```
from math import sqrt

def racine_du_double(x):
    return sqrt(2*x)
```

Quelle est la précondition sur l'argument de cette fonction ?

#### Réponses

- A  $x < 0$
- B  $x \geq 0$
- C  $2 * x > 0$
- D  $\text{sqrt}(x) \geq 0$



Modèle CCYC : ©DNE

Nom de famille (naissance) :


(Suivi s'il y a lieu, du nom d'usage)

Prénom(s) :

N° candidat :  N° d'inscription :

(Les numéros figurent sur la convocation.)

Né(e) le :  /  /



1.1

## Thème G : algorithmique

### Question G 1

On décide d'effectuer une recherche dans un tableau trié contenant 42000 valeurs. On procède par dichotomie. Le nombre maximal d'itérations de l'algorithme sera :

#### Réponses

- A 21000 car une recherche dichotomique divise le nombre de tests maximal par deux.
- B 42000 car la valeur recherchée pourrait très bien être la dernière du tableau.
- C 41999 car si on n'a pas trouvé l'élément recherché à l'avant-dernière position du tableau, il n'est plus utile d'effectuer de test pour la dernière position.
- D 16 car à chaque itération, le nombre d'éléments à examiner est divisé par deux et que  $2^{15} \leq 42000 \leq 2^{16}$ .

### Question G 2

À quelle catégorie appartient l'algorithme des k plus proches voisins ?

#### Réponses

- A algorithmes de tri
- B algorithmes gloutons
- C algorithmes de recherche de chemins
- D algorithmes de classification et d'apprentissage

### Question G 3

Soit  $T$  le temps nécessaire pour trier, à l'aide de l'algorithme du tri par insertion, une liste de 1000 nombres entiers. Quel est l'ordre de grandeur du temps nécessaire, avec le même algorithme, pour trier une liste de 10 000 entiers, c'est-à-dire une liste dix fois plus grande ?

#### Réponses

- A à peu près le même temps  $T$
- B environ  $10 \times T$
- C environ  $100 \times T$
- D environ  $T^2$

### Question G 4

On suppose qu'au début de l'exécution la variable  $K$  contient un entier positif non nul. Lequel des scripts suivants va boucler indéfiniment ?

#### Réponses

A

```
i = K+1
while i < K:
    i = i + 1
```

B

```
i = K-1
while i < K:
    i = i - 1
```

C

```
i = K-1
```



```
while i < K:  
    i = i + 1
```

D

```
i = K+1  
while i >= K:  
    i = i - 1
```

### Question G 5

On dispose d'une fonction moyenne qui calcule la moyenne d'une liste de nombres et on écrit la fonction suivante :

```
def centrage(L, a):  
    for i in range(0, len(L)):  
        L[i] = L[i] - a  
    return L
```

Pour la liste  $L1 = [5, 3, 1]$ , quelle est la valeur de  $\text{centrage}(L1, \text{moyenne}(L1))$  ?

#### Réponses

- A [5.0, 3.0, 1.0]
- B [3.0, 3.0, 3.0]
- C [2.0, 0.0, -2.0]
- D [2.0, 1.0, -0.3333333]

### Question G 6

On considère la fonction suivante, où  $T$  est une liste d'entiers et  $i$  un indice de la liste :

```
def indiceMinimum(T, i):  
    indice = i  
    m = T[i]  
    for k in range(i+1, len(T)):  
        if T[k] < m:  
            indice = k  
            m = T[k]  
    return indice
```

On exécute  $\text{indiceMinimum}(T, i)$  pour une liste  $T$  de longueur  $n$ .  
Combien de fois l'inégalité  $T[k] < m$  est-elle évaluée ?

#### Réponses

- A  $n - i$
- B  $n - i + 1$
- C  $n - i - 1$
- D  $n - 1$