


| | | |
|--|--|--------------------|
| Modèle CCYC : ©DNE | | |
| Nom de famille (naissance) : <small>(Suivi s'il y a lieu, du nom d'usage)</small> | | |
| Prénom(s) : | | |
| N° candidat : | | N° d'inscription : |
| <small>(Les numéros figurent sur la convocation.)</small> | | |
| Né(e) le : | | |



1.1

| Évaluation |
|---|
| <p>CLASSE : Première</p> <p>VOIE : <input checked="" type="checkbox"/> Générale <input type="checkbox"/> Technologique <input type="checkbox"/> Toutes voies (LV)</p> <p>ENSEIGNEMENT : spécialité Numérique et Sciences Informatiques (NSI)</p> <p>DURÉE DE L'ÉPREUVE : 02 h 00</p> <p>Niveaux visés (LV) : LVA LVB</p> <p>Axes de programme :</p> <p>CALCULATRICE AUTORISÉE : <input type="checkbox"/> Oui <input checked="" type="checkbox"/> Non</p> <p>DICTIONNAIRE AUTORISÉ : <input type="checkbox"/> Oui <input checked="" type="checkbox"/> Non</p> <p><input checked="" type="checkbox"/> Ce sujet contient des parties à rendre par le candidat avec sa copie. De ce fait, il ne peut être dupliqué et doit être imprimé pour chaque candidat afin d'assurer ensuite sa bonne numérisation.</p> <p><input type="checkbox"/> Ce sujet intègre des éléments en couleur. S'il est choisi par l'équipe pédagogique, il est nécessaire que chaque élève dispose d'une impression en couleur.</p> <p><input type="checkbox"/> Ce sujet contient des pièces jointes de type audio ou vidéo qu'il faudra télécharger et jouer le jour de l'épreuve.</p> <p>Nombre total de pages : 21</p> |

L'épreuve consiste en 42 questions, rangées en 7 thèmes.
 Pour chaque question, le candidat gagne 3 points s'il choisit la bonne réponse, perd 1 point s'il choisit une réponse fautive. S'il ne répond pas ou choisit plusieurs réponses, il ne gagne ni ne perd aucun point.
 Le total sur chacun des 7 thèmes est ramené à 0 s'il est négatif.
 La note finale s'obtient en divisant le total des points par 6,3 et en arrondissant à l'entier supérieur.

Le candidat indique ses réponses aux questions en pages 3 et 4.
Seules les pages 1 à 4 sont rendues par le candidat à la fin de l'épreuve, pour être numérisées.

Les questions figurent sur les pages suivantes.



Modèle CCYC : ©DNE

Nom de famille (naissance) :

(Suivi s'il y a lieu, du nom d'usage)

Prénom(s) :

N° candidat :

N° d'inscription :



Liberté • Égalité • Fraternité
RÉPUBLIQUE FRANÇAISE

(Les numéros figurent sur la convocation.)

Né(e) le :

1.1

Thème A : types de base

- Réponse à la question 1 A B C D
- Réponse à la question 2 A B C D
- Réponse à la question 3 A B C D
- Réponse à la question 4 A B C D
- Réponse à la question 5 A B C D
- Réponse à la question 6 A B C D

Thème B : types construits

- Réponse à la question 1 A B C D
- Réponse à la question 2 A B C D
- Réponse à la question 3 A B C D
- Réponse à la question 4 A B C D
- Réponse à la question 5 A B C D
- Réponse à la question 6 A B C D

Thème C : traitement de données en tables

- Réponse à la question 1 A B C D
- Réponse à la question 2 A B C D
- Réponse à la question 3 A B C D
- Réponse à la question 4 A B C D
- Réponse à la question 5 A B C D
- Réponse à la question 6 A B C D

Thème D : interactions entre l'homme et la machine sur le Web

- Réponse à la question 1 A B C D
- Réponse à la question 2 A B C D
- Réponse à la question 3 A B C D
- Réponse à la question 4 A B C D
- Réponse à la question 5 A B C D
- Réponse à la question 6 A B C D



Thème E : architectures matérielles et systèmes d'exploitation

| | | | | |
|-------------------------|----------------------------|----------------------------|----------------------------|----------------------------|
| Réponse à la question 1 | A <input type="checkbox"/> | B <input type="checkbox"/> | C <input type="checkbox"/> | D <input type="checkbox"/> |
| Réponse à la question 2 | A <input type="checkbox"/> | B <input type="checkbox"/> | C <input type="checkbox"/> | D <input type="checkbox"/> |
| Réponse à la question 3 | A <input type="checkbox"/> | B <input type="checkbox"/> | C <input type="checkbox"/> | D <input type="checkbox"/> |
| Réponse à la question 4 | A <input type="checkbox"/> | B <input type="checkbox"/> | C <input type="checkbox"/> | D <input type="checkbox"/> |
| Réponse à la question 5 | A <input type="checkbox"/> | B <input type="checkbox"/> | C <input type="checkbox"/> | D <input type="checkbox"/> |
| Réponse à la question 6 | A <input type="checkbox"/> | B <input type="checkbox"/> | C <input type="checkbox"/> | D <input type="checkbox"/> |

Thème F : langages et programmation

| | | | | |
|-------------------------|----------------------------|----------------------------|----------------------------|----------------------------|
| Réponse à la question 1 | A <input type="checkbox"/> | B <input type="checkbox"/> | C <input type="checkbox"/> | D <input type="checkbox"/> |
| Réponse à la question 2 | A <input type="checkbox"/> | B <input type="checkbox"/> | C <input type="checkbox"/> | D <input type="checkbox"/> |
| Réponse à la question 3 | A <input type="checkbox"/> | B <input type="checkbox"/> | C <input type="checkbox"/> | D <input type="checkbox"/> |
| Réponse à la question 4 | A <input type="checkbox"/> | B <input type="checkbox"/> | C <input type="checkbox"/> | D <input type="checkbox"/> |
| Réponse à la question 5 | A <input type="checkbox"/> | B <input type="checkbox"/> | C <input type="checkbox"/> | D <input type="checkbox"/> |
| Réponse à la question 6 | A <input type="checkbox"/> | B <input type="checkbox"/> | C <input type="checkbox"/> | D <input type="checkbox"/> |

Thème G : algorithmique

| | | | | |
|-------------------------|----------------------------|----------------------------|----------------------------|----------------------------|
| Réponse à la question 1 | A <input type="checkbox"/> | B <input type="checkbox"/> | C <input type="checkbox"/> | D <input type="checkbox"/> |
| Réponse à la question 2 | A <input type="checkbox"/> | B <input type="checkbox"/> | C <input type="checkbox"/> | D <input type="checkbox"/> |
| Réponse à la question 3 | A <input type="checkbox"/> | B <input type="checkbox"/> | C <input type="checkbox"/> | D <input type="checkbox"/> |
| Réponse à la question 4 | A <input type="checkbox"/> | B <input type="checkbox"/> | C <input type="checkbox"/> | D <input type="checkbox"/> |
| Réponse à la question 5 | A <input type="checkbox"/> | B <input type="checkbox"/> | C <input type="checkbox"/> | D <input type="checkbox"/> |
| Réponse à la question 6 | A <input type="checkbox"/> | B <input type="checkbox"/> | C <input type="checkbox"/> | D <input type="checkbox"/> |

Modèle CCYC : ©DNE

Nom de famille (naissance) :

(Suivi s'il y a lieu, du nom d'usage)

Prénom(s) :

N° candidat : N° d'inscription :

(Les numéros figurent sur la convocation.)

Né(e) le : / /



1.1

Thème A : types de base

Question A 1

Quel est le nombre minimum de bits qui permet de représenter les 26 lettres majuscules de l'alphabet ?

Réponses

- A 4
- B 5
- C 25
- D 26

Question A 2

Dans le bloc <head> d'un fichier HTML, afin d'encoder les caractères avec le standard Unicode/UTF-8 on insère la ligne :

```
<meta http-equiv="Content -Type" content="text/html; charset=UTF-8">
```

Pourquoi cela ?

Réponses

- A UTF-8 est l'encodage Linux
- B ASCII est une vieille norme, il est temps d'en changer
- C UTF-8 est une norme conçue pour permettre un affichage correct des caractères spéciaux sur tout système d'exploitation
- D UTF-8 est un encodage qui protège mieux contre le piratage informatique

Question A 3

Quelle est la valeur de x à la fin de l'exécution du script Python suivant ?

```
x = 1
for i in range(10):
    x = x * 2
```

Réponses

- A 2
- B 1024
- C 2048
- D 2000000000

Question A 4

La somme des nombres 10011 et 10110 écrits en base 2 est :

Réponses

- A 20121
- B 01001
- C 101001
- D 100101

Question A 5

Quelle est la séquence de bit qui représente -25 en complément à 2 sur 8 bits ?

**Réponses**

- A 0001 1001
- B 0001 1010
- C 1110 0110
- D 1110 0111

Question A 6

Olivier visite son site préféré pour relire le programme de NSI.

Il devrait lire le texte ci-dessous :

L'enseignement de spécialité de numérique et sciences informatiques du cycle terminal de la voie générale vise l'appropriation des fondements de l'informatique pour préparer les élèves à une poursuite d'études dans l'enseignement supérieur, en les formant à la pratique d'une démarche scientifique et en développant leur appétence pour des activités de recherche.

Le paramétrage de son navigateur lui donne l'affichage ci-dessous :

L'enseignement de spécialité de numérique et sciences informatiques du cycle terminal de la voie générale vise l'appropriation des fondements de l'informatique pour préparer les élèves à une poursuite d'études dans l'enseignement supérieur, en les formant à la pratique d'une démarche scientifique et en développant leur appétence pour des activités de recherche.

Quel type d'encodage Olivier doit-il choisir dans les paramètres de son navigateur pour afficher correctement le texte ?

Réponses

- A ANSI
- B LATIN-1
- C UTF-8
- D ASCII

Modèle CCYC : ©DNE

Nom de famille (naissance) :

(Suivi s'il y a lieu, du nom d'usage)

Prénom(s) :

N° candidat : N° d'inscription :

(Les numéros figurent sur la convocation.)

Né(e) le : / /

 RÉPUBLIQUE FRANÇAISE

1.1

Thème B : types construits

Question B 1

On exécute l'instruction suivante :

```
T = [ [12,13,14,15],
      [24,25,26,27],
      [35,36,49,33],
      [61,53,55,58] ]
```

Quelle expression parmi les quatre suivantes a pour valeur 26 ?

Réponses

- A T[1][2]
- B T[2][1]
- C T[2][3]
- D T[3][2]

Question B 2

On définit :

```
resultat = [ i*2 for i in range(10) ]
```

Quelle est la valeur de resultat ?

Réponses

- A [0, 1, 2, 3, 4, 5, 6, 7, 8, 9]
- B [0, 2, 4, 6, 8, 10, 12, 14, 16, 18]
- C [0, 2, 4, 6, 8, 10, 12, 14, 16, 18, 20]
- D [2, 4, 6, 8, 10, 12, 14, 16, 18]

Question B 3

On exécute les instructions suivantes :

```
L = [ [ 0, 1, 2, 3 ], [ 4, 5, 6, 7 ], [ 8, 9, 10, 11 ], [ 12, 13, 14, 15 ] ]
```

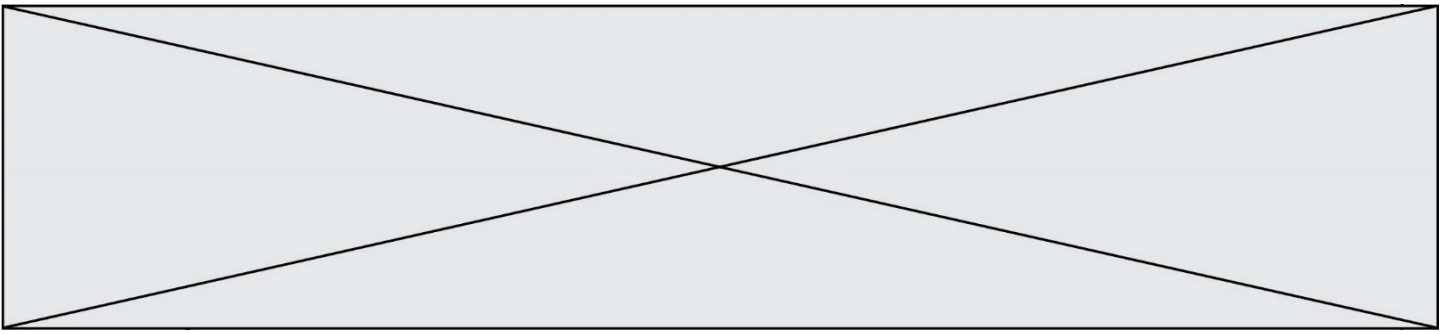
```
M = [ L[i+1][i] + L[i][i+1] for i in range (3) ]
```

Que vaut M à la fin de cette exécution ?

Réponses

- A [0 , 4 , 12]
- B [5 , 10 , 15]
- C [5 , 15 , 25]
- D Python signale une erreur d'indexation

Question B 4



Quelle instruction permet d'affecter la liste [0, 1, 4, 9, 16] à la variable `tableau` ?

Réponses

- A `tableau = [i**2 for i in range(4)]`
- B `tableau = [i**2 for i in range(5)]`
- C `tableau = [i**2 for i in range(16)]`
- D `tableau = [i**2 for i in range(17)]`

Question B 5

On construit une matrice par compréhension :

```
M = [ [i*j for j in range(4)] for i in range(4) ]
```

Laquelle des conditions suivantes est-elle vérifiée ?

Réponses

- A `M[4][4] == 16`
- B `M[0][1] == 1`
- C `M[2][3] == 6`
- D `M[1][2] == 3`

Question B 6

On considère le code suivant :

```
D = { 'a': '1', '2': 'a', 'b': 'a', 'c': '3' }
```

Que vaut `D['a']` à la fin de son exécution ?

Réponses

- A `'1'`
- B `2`
- C `['2', 'b']`
- D `['1', '3']`

Modèle CCYC : ©DNE

Nom de famille (naissance) :

(Suivi s'il y a lieu, du nom d'usage)

Prénom(s) :

N° candidat : N° d'inscription :

(Les numéros figurent sur la convocation.)

Né(e) le : / /



1.1

Thème C : traitement de données en tables

Question C 1

On définit la fonction suivante qui prend en argument un tableau non vide d'entiers.

```
def f(T):
    s = 0
    for k in T:
        if k == 8:
            s = s+1
    if s > 1:
        return True
    else:
        return False
```

Dans quel cas cette fonction renvoie-t-elle la valeur True ?

Réponses

- A dans le cas où 8 est présent au moins une fois dans le tableau T
- B dans le cas où 8 est présent au moins deux fois dans le tableau T
- C dans le cas où 8 est présent exactement une fois dans le tableau T
- D dans le cas où 8 est présent exactement deux fois dans le tableau T

Question C 2

On définit ainsi une liste t :

```
t = [ {'id':1, 'age':23, 'sejour':'PEKIN'},
      {'id':2, 'age':27, 'sejour':'ISTANBUL'},
      {'id':3, 'age':53, 'sejour':'LONDRES'},
      {'id':4, 'age':41, 'sejour':'ISTANBUL'},
      {'id':5, 'age':62, 'sejour':'RIO'},
      {'id':6, 'age':28, 'sejour':'ALGER'}]
```

Quelle affirmation est correcte ?

Réponses

- A t est une liste de listes
- B t est une liste de dictionnaires
- C t est un dictionnaire de listes
- D t est une liste de tuples

Question C 3

On exécute le code suivant :

```
a = [5, 4, 3, 4, 7]
a.append(4)
```

Quelle est la valeur de la variable a à la fin de cette exécution ?

Réponses

- A 2
- B [4, 4]
- C [5, 4, 3, 4, 7, 4]
- D True



Question C 4

On exécute le script suivant :

```
a = [1, 2, 3]
b = [4, 5, 6]
c = a + b
```

Que contient la variable c à la fin de cette exécution ?

Réponses

- A [5,7,9]
- B [1,4,2,5,3,6]
- C [1,2,3,4,5,6]
- D [1,2,3,5,7,9]

Question C 5

Qu'est-ce qu'un fichier CSV ?

Réponses

- A une librairie Python permettant l'affichage des images
- B un utilitaire de traitement d'image
- C un format d'image
- D un format de données

Question C 6

On exécute le script suivant :

```
asso = []
L = [ ['marc','marie'], ['marie','jean'], ['paul','marie'], ['marie','marie'],
      ['marc','anne'] ]
for c in L :
    if c[1]=='marie':
        asso.append(c[0])
```

Que vaut asso à la fin de l'exécution ?

Réponses

- A ['marc', 'jean', 'paul']
- B [['marc','marie'], ['paul','marie'], ['marie','marie']]
- C ['marc', 'paul', 'marie']
- D ['marie', 'anne']

Modèle CCYC : ©DNE

Nom de famille (naissance) :

(Suivi s'il y a lieu, du nom d'usage)

Prénom(s) :

N° candidat : N° d'inscription :

(Les numéros figurent sur la convocation.)

Né(e) le : / /



1.1

Thème D : interactions entre l'homme et la machine sur le Web

Question D 1

Compléter le script ci-dessous :

```
<!DOCTYPE html>
<html>
  <head>
    <.....>Ma page HTML</.....>
  </head>
</html>
```

Réponses

- A href
- B title
- C html
- D aucune des propositions précédentes

Question D 2

Saisir l'URL `http://monsite.com/monprogramme.py?id=25` dans la barre d'adresse d'un navigateur ne peut jamais permettre :

Réponses

- A d'obtenir une image
- B d'envoyer une requête GET
- C d'envoyer une requête POST
- D d'exécuter un programme Python sur le serveur

Question D 3

Quelle est la balise HTML utilisée pour indiquer un titre de niveau d'importance maximal ?

Réponses

- A la balise `<h0>`
- B la balise `<h1>`
- C la balise `<head>`
- D la balise `<header>`

Question D 4

Un fichier HTML contient la ligne suivante.

```
<p>Coucou ! Ca va?</p>
```

Quelle commande CSS écrire pour que le texte apparaisse en rose sur fond jaune ?

Réponses

- A `p { couleur: rose ; fond: jaune;}`
- B `<p> { color = pink background-color = yellow}`
- C `<p> { color = pink ; background-color: yellow} </p>`
- D `p { color: pink ; background-color: yellow ;}`

Question D 5



Quelle est la fonction principale d'un fichier CSS ?

Réponses

- A Définir le style d'une page web
- B Assurer l'interaction entre une page web et l'utilisateur
- C Créer une page web dynamique
- D Créer un bouton dans une page web

Question D 6

Parmi GET et POST, quelle méthode d'envoi de formulaire crypte les informations envoyées au serveur ?

Réponses

- A les deux : GET et POST
- B GET seulement
- C POST seulement
- D aucune des deux

Modèle CCYC : ©DNE

Nom de famille (naissance) :

(Suivi s'il y a lieu, du nom d'usage)

Prénom(s) :

N° candidat : N° d'inscription :

(Les numéros figurent sur la convocation.)

Né(e) le : / /

 Liberté • Égalité • Fraternité
RÉPUBLIQUE FRANÇAISE

1.1

Thème E : architectures matérielles et systèmes d'exploitation

Question E 1

Parmi les adresses suivantes, laquelle est une adresse Ethernet non valide ?

Réponses

- A 8D:A9:D5:67:E6:F3
- B 8d:a9:d5:67:e6:f3
- C 8H:A9:D5:67:E6:F3
- D FF:A9:D5:67:E6:F3

Question E 2

Depuis le répertoire /home/ubuntu/ on exécute la commande

```
mkdir ../Documents/Holidays
```

Quel est son effet ?

Réponses

- A supprimer le dossier Holidays situé dans Documents
- B changer de répertoire pour se retrouver dans le répertoire /home/Documents/Holidays
- C créer un dossier Holidays dans le répertoire /home/ubuntu/Documents
- D lister le contenu du répertoire Holidays de Documents

Question E 3

Dans le protocole de communication TCP/IP, pour le transfert d'un gros fichier :

Réponses

- A Les données sont envoyées en une seule partie.
- B Les données sont envoyées en plusieurs parties qui suivent le même itinéraire au sein du réseau.
- C Les données sont envoyées en plusieurs parties qui peuvent suivre des itinéraires différents au sein du réseau et arrivent à destination en respectant l'ordre de leur envoi.
- D Les données sont envoyées en plusieurs parties qui peuvent suivre des itinéraires différents au sein du réseau et arrivent à destination dans un ordre quelconque.

Question E 4

Comment s'appelle l'ensemble des règles qui régissent les échanges sur Internet ?

Réponses

- A les couches
- B le wifi
- C les protocoles
- D les commutateurs

Question E 5

Dans un terminal sous Linux, quelle commande faut-il écrire pour donner à tout le monde le droit d'écriture sur un fichier information.py ?



Réponses

- A `chmod o+w information.py`
- B `chmod a+w information.py`
- C `chmod o+x information.py`
- D `chmod a+x information.py`

Question E 6

Lequel de ces systèmes d'exploitation est sous licence propriétaire ?

Réponses

- A Android
- B Linux
- C Windows
- D Ubuntu

Modèle CCYC : ©DNE

Nom de famille (naissance) :

(Suivi s'il y a lieu, du nom d'usage)

Prénom(s) :

N° candidat :

N° d'inscription :



Liberté • Égalité • Fraternité
RÉPUBLIQUE FRANÇAISE

(Les numéros figurent sur la convocation.)

Né(e) le :

1.1

Thème F : langages et programmation

Question F 1

La fonction suivante ne calcule pas toujours correctement le maximum des deux nombres donnés en argument. On rappelle que $\text{abs}(z)$ calcule la valeur absolue du nombre z .

```
def maxi(x,y) :  
    m = (x-y+abs(x+y))/2  
    return m
```

Parmi les tests suivants, lequel va détecter l'erreur ?

Réponses

- A maxi(3,-2)
- B maxi(2,2)
- C maxi(3,2)
- D maxi(2,3)

Question F 2



Soit n un entier naturel. Sa factorielle est le produit des nombres entiers strictement positifs qui sont plus petits ou égaux à n . Par exemple la factorielle de 4 vaut $1 \times 2 \times 3 \times 4 = 24$.

Quelle est la fonction correcte parmi les suivantes ?

Réponses

A

```
def factorielle(n):  
    i = 0  
    fact = 1  
    while i <= n:  
        fact = fact * i  
        i = i + 1  
    return fact
```

B

```
def factorielle(n):  
    i = 1  
    fact = 1  
    while i < n:  
        fact = fact * i  
        i = i + 1  
    return fact
```

C

```
def factorielle(n):  
    i = 0  
    fact = 1  
    while i < n:  
        i = i + 1  
        fact = fact * i  
    return fact
```

D

```
def factorielle(n):  
    i = 0  
    fact = 1  
    while i <= n:  
        i = i + 1  
        fact = fact * i  
    return fact
```

Question F 3

La fonction `ajoute(n,p)` codée ci-dessous en Python doit calculer la somme de tous les entiers compris entre n et p (n et p compris).

Par exemple, `ajoute(2,4)` doit renvoyer $2+3+4 = 9$.

```
def ajoute(n,p):  
    somme = 0  
    for i in range(.....): # ligne à modifier  
        somme = somme + i  
    return somme
```


Modèle CCYC : ©DNE

Nom de famille (naissance) :

(Suivi s'il y a lieu, du nom d'usage)

Prénom(s) :

N° candidat : N° d'inscription :

(Les numéros figurent sur la convocation.)

Né(e) le : / /



1.1

Quelle est la bonne écriture de la ligne marquée à modifier ?

Réponses

- A for i in range(n,1,p):
- B for i in range(n,p):
- C for i in range(n,p+1):
- D for i in range(n-1,p):

Question F 4

On définit la fonction suivante :

```
def rey(n):
    i = 1
    while i <= n:
        i = 2*i
    return i
```

Quelle valeur renvoie l'appel rey(100) ?

Réponses

- A 0
- B 64
- C 100
- D 128

Question F 5

Un programme Python commence par la ligne :

```
import os
```

À quoi sert cette ligne ?

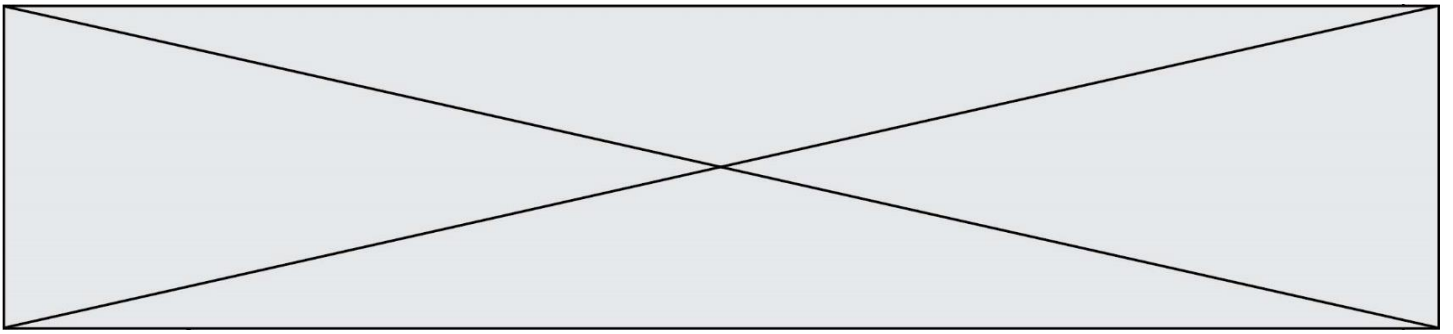
Réponses

- A c'est le début du squelette de tout programme Python
- B c'est la déclaration du système d'exploitation (*operating system*)
- C Python 3.6 exige cette ligne au début de tout programme
- D c'est la déclaration d'une bibliothèque (ou module) que le programme compte utiliser

Question F 6

On considère la fonction suivante :

```
def comparaison(a,b):
    if a < b:
        return a
    else:
        return b
```



Quel est le type de la valeur renvoyée par l'appel `comparaison(6, 5)` ?

Réponses

- A un booléen (vrai/faux)
- B un nombre entier
- C un nombre flottant
- D une chaîne de caractères

Modèle CCYC : ©DNE

Nom de famille (naissance) :

(Suivi s'il y a lieu, du nom d'usage)

Prénom(s) :

N° candidat :

N° d'inscription :



(Les numéros figurent sur la convocation.)

Né(e) le :

1.1

Thème G : algorithmique

Question G 1

À quelle catégorie appartient l'algorithme classique de rendu de monnaie ?

Réponses

- A les algorithmes de classification et d'apprentissage
- B les algorithmes de tri
- C les algorithmes gloutons
- D les algorithmes de mariages stables

Question G 2

On considère la fonction suivante :

```
def comptage(phrase, lettre):  
    i = 0  
    for j in phrase:  
        if j == lettre:  
            i = i+1  
    return i
```

Que renvoie l'appel `comptage("Vive l'informatique", "e")` ?

Réponses

- A 0
- B 2
- C 19
- D 'e'

Question G 3

On considère la fonction suivante :

```
def f(x, L):  
    i = 0  
    j = len(L)-1  
    while i < j:  
        k = (i+j)//2  
        if x <= L[k]:  
            j = k  
        else:  
            i = k + 1  
    return i
```

Cette fonction implémente :

Réponses

- A le tri par insertion
- B le tri par sélection
- C la recherche dichotomique
- D la recherche du plus proche voisin

Question G 4

On suppose qu'au début de l'exécution la variable K contient un entier positif non nul. Lequel des scripts suivants va boucler indéfiniment ?



Réponses

A

```
i = K+1
while i < K:
    i = i + 1
```

B

```
i = K-1
while i < K:
    i = i - 1
```

C

```
i = K-1
while i < K:
    i = i + 1
```

D

```
i = K+1
while i >= K:
    i = i - 1
```

Question G 5

On exécute le script suivant :

```
for i in range(n):
    for j in range(i):
        print('NSI')
```

Combien de fois le mot NSI est-il affiché ?

Réponses

A n^2

B $(n + 1)^2$

C $1 + 2 + \dots + (n - 1)$

D $1 + 2 + \dots + (n - 1) + n$

Question G 6

Modèle CCYC : ©DNE

Nom de famille (naissance) :

(Suivi s'il y a lieu, du nom d'usage)

Prénom(s) :

N° candidat : N° d'inscription :

(Les numéros figurent sur la convocation.)

Né(e) le : / /



1.1

a et m étant deux entiers supérieurs à 1, la fonction suivante renvoie a^m .

```
def puissance(a,m):
    p = 1
    n = 0
    while n < m:
        p = p * a
        #
        n = n + 1
    return p
```

Quelle est l'égalité qui est vérifiée à chaque passage par la ligne marquée # ?

Réponses

- A $p = a^{n-1}$
- B $p = a^n$
- C $p = a^{n+1}$
- D $p = a^m$